



St Fatima Language Schools
Al Hegaz

مدرسة سانت فاتيما - الحجاز

الاسم :

الفصل :

اسم المدرس :

الفصل الدراسي الثاني للعام الدراسي 2024/2023



الدراسات الاجتماعية للفصل الرابع الابتدائي

اشرف رئيس قسم الدراسات الاجتماعية
أ. عصمت العدل

المحور الثالث : المجتمع والثقافة

الوحدة الأولى : السكان ونظام الحكم في بلدنا

الدرس الأول : أنماط سكان بلدنا



* مفاهيم الدرس :

- الساعة السكانية : هي ساعة تظهر تقديرات لعدد سكان مصر أمام الجهاز المركزي للتعبئة والأحصاء.

الساعة السكانية الآن

الإثنين 11 مايو 2020 03:51 ص حسب توقيت القاهرة

1 0 0 , 3 6 4 , 6 9 6

- التعداد السكاني :

هو عملية حصر شامل للسكان كل عشر سنوات.

- سكان الحضر :

هم الذين يسكنون المدن ويعملون في الصناعة والتجارة والسياحة والخدمات.

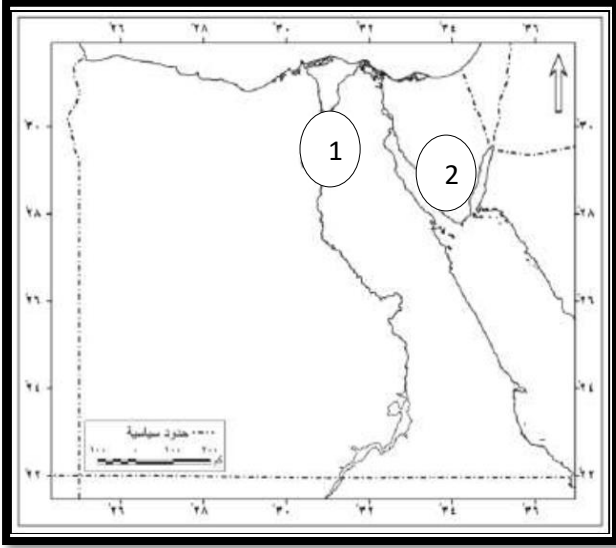
- سكان الريف :

هم الذين يسكنون القرى ويعملون في الزراعة وتربية الحيوانات.

- البدو :

هم يسكنون الصحارى ويمارسون حرفة الرعى ؟

* السؤال الأول : أكمل العبارات الآتية :



1- محافظة يزيد فيها عدد السكان علي

8 ملايين

نسمة.....

2- محافظة يقل فيها عدد السكان عن

مليون

نسمة.....

السؤال الثاني : ضع كلمة صح امام العبارات الصحيحة و كلمة خطأ امام

العبارات الخاطئة :

- 1- حصر عدد السكان كل عدة سنوات يقصد به التعداد السكاني ()
- 2- تعتبر الجيزة أعلى محافظات مصر سكاناً لأنها العاصمة ()
- 3- يمثل تعداد 2017 م أول تعداد سكاني في تاريخ مصر ()
- 4- يعاني سكان الحضر من هجرة سكان الريف اليهم و ظهور العشوائيات ()
- 5- تزداد نسبة البطالة والامية في الحضر عن الريف ()
- 6- تسعى مبادرة حياة كريمة لتحقيق التنمية المستدامة ()
- 7- يختلف توزيع سكان مصر بين المحافظات ()

• السؤال الثالث : أمامك خريطة صماء لمصر أكتب مدلول الأرقام الموقعة عليها :

- 1- أعلي محافظات مصر سكاناً
- 2- أقل محافظات مصر سكاناً
- 3- محافظة يعمل سكانها من البدو بالرعي

• السؤال الرابع : بم تفسر :-


- 1- أهمية التعداد السكاني ؟
ج) تحديد الخدمات التي يحتاجها السكان في الحاضر والمستقبل.
- 2- أهمية التنوع في أنماط السكان ؟
ج) ساعد التنوع على تحقيق التكامل بين السكان وتبادل المنتجات وتحقيق التنمية في جميع المجالات الاقتصادية.
- 3- أختلاف توزيع السكان بين محافظات مصر ؟
ج) بسبب اختلاف مظاهر السطح .
- 4) زيادة عدد السكان بصفة مستمرة؟
ج) لارتفاع عدد المواليد

الدرس الثانى : التراث الثقافى لسكان بلدنا

● مفاهيم الدرس :

- التراث الثقافى :

كل ما تركه لنا الاجداد من اماكن تاريخية و أثرية و فنون شعبية و تقاليد اجتماعية




- سباق الهجن :

رياضة تراثية ويستخدم فيها الأبل (الجمال) فى السباق ويشتهر بها بدو سيناء.



السؤال الأول : لاحظ ووصل:-



١. يشتهر سكان محافظة بور سعيد
في احتفالاتهم بتصميم عروض فنية
خاصة بهم، مثل رقصة البمبوتية.



٢. تنتشر لعبة التحطيب التي تعتمد
على استخدام العصي بين سكان
محافظة الوجه القبلي.



٣. يشتهر أهل سيناء بإقامة
سباقات الهجن.

السؤال الثانى : أكمل العبارات التالية بكلمات مناسبة :

1- يحتفل سكان الواحات في مصر بعيد حصاد التمور والزيتون
منتصف شهر.....

2- رقصة البمبوتية تنتشر بين سكان منطقة.....

3- يعد التراث امتداداً للحضارة المصرية القديمة

4- تؤدي سباقات الي تنشيط السياحة في سيناء

5- تم انشاء متحف للسيرة الهلالية في محافظة..... عام

2015م

6- يشير أحد نقوش معبد الكرنك إلي تعلم الملك امنحتب الثالث
التحطيب علي يد.....

السؤال الثالث : أكتب كلمة (صح) او (خطأ) :

1- لعبت اللغة النوبية دوراً كبيراً فى أنتصار الجيش المصرى فى
حرب أكتوبر المجيدة ()

2- يشتهر سكان الصعيد بالفنون الشعبية التراثية وهو فن التحطيب
()

3- فن التحطيب من الفنون المصرية القديمة وعرفها المصريون
القدماء ()

4- يشتهر سكان الصعيد بالبمبوتية ()

5- يشتهر مدن القناة بإنشاد السيرة الهلالية ()

6- تم إدراج فن التحطيب كفن تراثى عريق على قائمة التراث

العالمى لمنظمة اليونسكو ()

7- تشمل مدن القناة القاهرة والسويس وبورسعيد ()

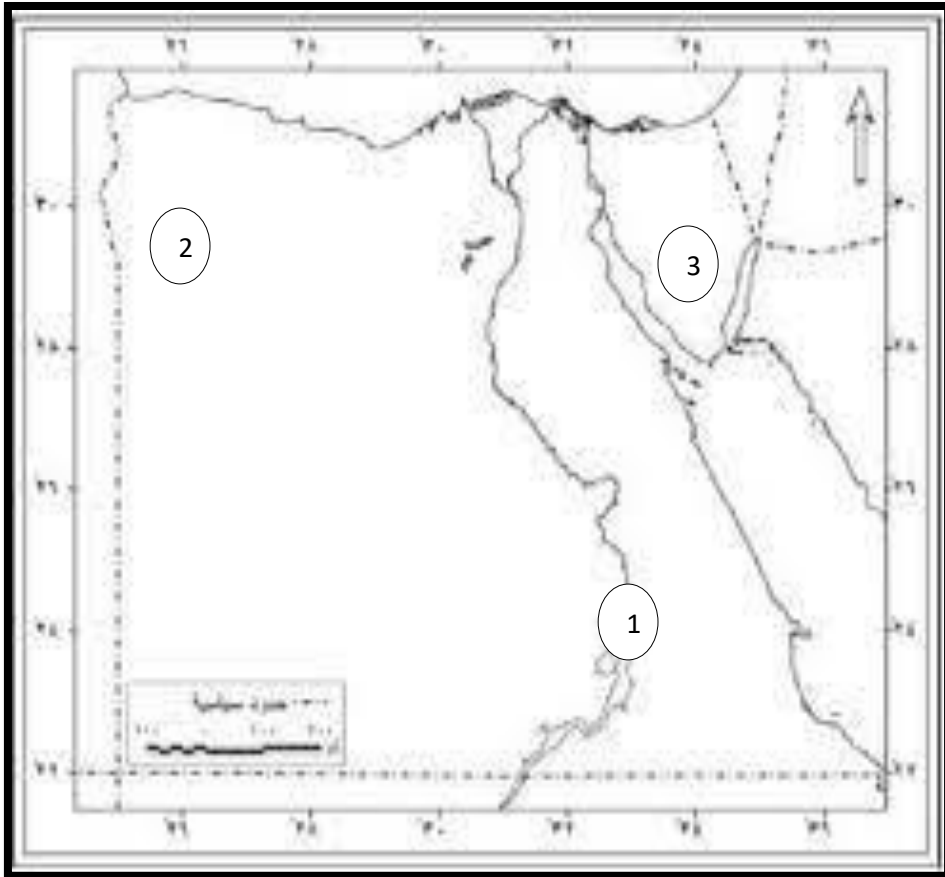
السؤال الرابع : أمامك خريطة صماء لمصر وضح ما تشير إليه

الارقام:-

1- محافظة تم انشاء متحف النوبة بها.....

2- منطقة تشتهر بعيد حصاد التمور والزيتون.....

3- مكان يشتهر بسباق الهجن.....



السؤال الخامس: اجب عن الاسئلة التالية:-

1- اكتب نتيجة واحدة ترتبت علي اهتمام الدولة بالتراث الثقافي.

(ج) زيادة الدخل القومي وتنشيط السياحة

2- اكتب تفسيراً واحداً لاهمية التراث الثقافي


(ج) يعد جزءاً من الهوية الوطنية المصرية التي يجب المحافظة عليها ويساهم

في توفير فرص عمل للشباب

الدرس الثالث : نماذج للمشكلات الاجتماعية في بلدنا

* مفاهيم الدرس:

- الأمية الهجائية: هي عدم قدرة الفرد على القراءة أو الكتابة .



- البطالة: من هم في سن العمل ولا يعملون.



- الأمية المعلوماتية :

تعنى عدم قدرة الفرد على تشغيل الأجهزة التكنولوجية والتواصل من خلالها أو الوصول إلى المعلومات.



السؤال الأول : اكمل العبارات الاتية بما يناسبها من كلمات مما بين القوسين:

(معلوماتية – المدارس- البطالة- أون- الاجتماعية- الاعلام)

- 1- يتأثر الاقتصاد المصري سلباً بالمشكلات.....
- 2- عدم قدرة الفرد علي تشغيل الاجهزة الالكترونية يعد امية.....
- 3- تسعى مصر للقضاء علي الامية و ذلك بإنشاء.....
- 4- يتم التوعية بأهمية التعليم عن طريق وسائل.....
- 5- الامية تقلل فرص الحصول علي العمل وتزيد من انتشار.....
- 6- أول جامعة في التاريخ المصري القديم كانت جامعة.....

السؤال الثاني : صوب ما تحته خط:

- 1- من المعوقات التي تؤثر على الخطط التنموية بناء المدارس
- 2- تقل نسبة الامية في ريف مصر
- 3- محافظة المنيا تعد من المحافظات التي تنخفض بها نسبة الامية
- 4- استخدم المصريون القدماء ورقاً مصنوعاً من زهرة اللوتس للكتابة عليه.
- 5- الامية الهجائية تعني عدم قدرة الفرد على التعامل مع وسائل التكنولوجيا

السؤال الثالث : أجب عما يلي :

1- بم تفسر:-

-أهمية الكتابة الهيروغليفية ؟

(ج) تسجيل احداث وأخبار المصريين القدماء.



- ما النتائج المترتبة على الأمية ؟

(ج) تؤدي إلى انتشار الجهل والخرافات وتقلل من فرصة الحصول على عمل مما يؤدي إلى انتشار البطالة مما يؤثر سلباً على الأقتصاد القومي.


الدرس الرابع : نظام الحكم فى بلدنا



● مفاهيم الدرس:

- رئيس الجمهورية :

يتولى الرئاسة عن طريق التصويت لة فى انتخابات عامة وهو مسئول عن أمن الوطن ورعاية مصالح الشعب ويمثل مصر دولياً ومحلياً.



- الحكومة :

تتكون من رئيس مجلس الوزراء والوزراء وتقوم بمهام عديدة منها الأشتراك مع رئيس الجمهورية فى وضع الخطة العامة للدولة.



- مجلس النواب :

هو الذى ينص القوانين فى الدولة ويمثل مجلس النواب السلطة التشريعية .



- السلطة القضائية :

هي سلطة مستقلة تتولاها المحاكم المتنوعة في ضوء القانون ليسود العدل.



السؤال الأول: صل من المجموعة (أ) ما يناسبها من المجموعة (ب)

(ب)

(أ)

أ المحافظ	1- مسئول عن امن الوطن ورعاية مصالح الشعب
ب مجلس النواب	2- مسئول عن إدارة شئون المحافظة
ج السلطة القضائية	3- يؤخذ رأيه في معاهدات الصلح ومشروعات القوانين
د رئيس الجمهورية	4- يتكون من 596 عضوا يمثلون فئات المجتمع المصري
هـ مجلس الشيوخ	5- سلطة مستقلة تتولي المحاكم وتصدر الاحكام

السؤال الثانى:-

اكمل العبارات الآتية

- 1- الوظيفة المقابلة فى مصر الفرعونية لوظيفة الوزير حالياً هي.....
- 2- تعد اقدم الدول التى وضعت نظاماً للحكم.
- 3- كان على رأس النظام فى مصر الفرعونية.
- 4- نظام الحكم فى مصر حالياً يتمثل فى ثلاث سلطات هما،.....،.....

السؤال الثالث : أكتب كلمة (صح) أو كلمة (خطا) :-

- 1- يؤدى العضو أمام مجلس النواب القسم ويطلق عليه اليمين الدستورى قبل ان يباشر عمله ()
- 2- كان الوزير فى مصر الفرعونية يعاون الحاكم فى إدارة شئون البلاد ()
- 3- السلطة التشريعية سلطة مستقلة تتولاها المحاكم المختلفة ()
- 4- رئيس الجمهورية حالياً هو منتخب عن طريق التصويت فى انتخابات عامة ()
- 5- وزير التعليم مسؤولاً عن توفير الرعاية الصحية للمواطنين ()
- 6- وزير الصحة مسؤولاً عن توفير تعليم متميز للمواطنين ()

السؤال الرابع : أجب عما يلي :

1- بم تفسر : أهمية وجود السلطة القضائية في الدولة ؟

(ج) لأنها تصدر الاحكام في ضوء القانون ليسود العدل

2- دال علي صحة العبارة التالية : عرفت مصر القديمة نظام حكم قوي

(ج) لان نظام الحكم كان يتكون الملك او الفرعون علي رأس النظام و الوزير

كان يعاون الملك في ادارة شئون البلاد و كبار الموظفين و كانوا يعاونون

الوزير

الوحدة الثانية : الاماكن السياحية و التراثية فى بلدنا الدرس الاول : تراثنا الوطنى

اهم المفاهيم الواردة بالدرس:

التراث:

هو ما تركه اجدادنا من اشياء قيمة سواء كان اثارا او مواقع طبيعية او عادات.



محمية وادى الحيتان



اهرامات الجيزة

التراث الثقافى:

هو ما تم توارثه عبر الاجيال و يشمل كل من الصناعات و الحرف التراثية و عادات و تقاليد الشعوب فى المأكل و الملابس و الفنون الشعبية و كذلك الأماكن السياحية و الأثرية ذات القيمة العظيمة مثل المعابد المصرية القديمة و الأهرامات و القلاع و المساجد و الكنائس و الأديرة.



قلعة صلاح الدين الايوبى

التراث الطبيعي:

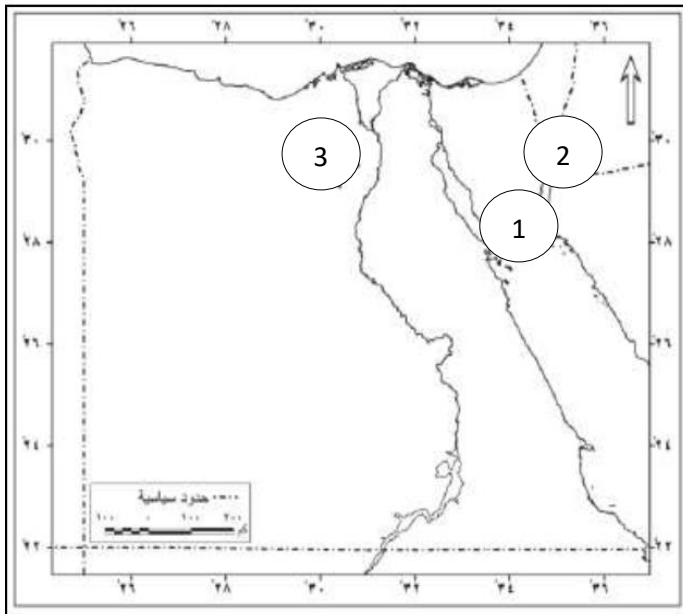
يشمل المعالم أو المواقع الطبيعية الجميلة ذات القيمة العالمية التي لم يتدخل الانسان في صنعائها او التأثير فيها.



محمية رأس محمد

السؤال الاول : أمامك خريطة صماء لمصر اكتب مدلول الارقام

عليها :



1- محمية توجد في محافظة جنوب
سيناء

2- موقع تراث ثقافي في محافظة
.....

3- من اهم المعالم السياحية بمحافظة
الفيوم

4- استنتج من الخريطة ان محمية

وادي الريان تقع في الصحراء

السؤال الثانى : أكمل العبارات الآتية بما يناسبها من كلمات:

- 1- بنى المصريون القدماء الكثير من المعابد و الأهرامات و هى تعد تراثاً
- 2- من أهم معالم التراث الطبيعى فى الفيوم محمية
- 3- شيد صلاح الدين لتوصيل مياه نهر النيل عبر السواقي الى القلعة
- 4- من الحيوانات البرية النادرة الموجودة فى وادى الريان و
- 5- يحتفل العالم كل عام يوم 18 ابريل باليوم العالمى لـ

السؤال الثالث : ضع علامة صح امام العبارة الصحيحة و علامة خطأ امام العبارات الخاطئة:

- 1- زيارة السائحين لمعبد الاقصر تعد زيارة لمنطقة تراث طبيعى ()
- 2- سور مجرى العيون يعد منطقة تراث طبيعى ()
- 3- تضم محمية وادى الريان الكثير من الحيوانات النادرة ()
- 4- توجد الاشجار المتحجرة فى محمية الصحراء البيضاء ()
- 5- خصصت منظمة اليونسيف يوماً عالمياً للتراث للتوعية بحماية تراث العالم ()

السؤال الرابع:- فسر بذكر السبب:

1- إنشاء صلاح الدين قلعة في مدينة طابا

- لحماية الطرق البرية والبحرية بين مصر وجيرانها وتأمين خليج العقبة والبحر الاحمر من الاعداء

2- تساهم منظمة اليونسكو في ترميم المدن القديمة

لتساعد الدول في الحفاظ علي الاماكن التراثية المهددة بالخطر

الدرس الثاني : الاماكن التراثية في بلدنا



بعض المواقع العالمية لقائمة التراث العالمي

السؤال الأول : أكمل العبارات الآتية بما يناسبها من كلمات:

- 1- تعد محمية وادى الحيتان منطقة تراث عالمى
- 2- تلقى النبي موسى الوصايا من الله فى منطقة
- 3- تعد منطقة فى مصر من اهم و اكبر المدن التراثية فى العالم
- 4- يقع دير سانت كاترين فى محافظة
- 5- قامت منظمة اليونسكو بانقاذ معبد ابو سمبل من الغرق بعد بناء.....

السؤال الثانى : ضع علامة صح امام العبارة الصحيحة و علامة

خطأ امام العبارات الخاطئة:

- 1- ترجع منطقة ابو مينا التراثية الى فترة الحكم القبطى ()
- 2- يعد معبد ايزيس من مناطق التراث الطبيعى ()
- 3- تضم منطقة وادى الحيتان هياكل عظمية لحيتان حديثة الولادة
- 4-تعد القاهرة عاصمة سياسية و ثقافية عريقة ()
- 5- تسهم منطقة اليونسكو فى الحفاظ على التراث الطبيعى و الثقافى بالدول ()

السؤال الثالث : صوب ماتحته خط:

- 1- دير القديسين من أقدم الاديرة في مصر
- 2- منطقة وادي الحيطان تقع بمحافظة الغربية
- 3- يقع دير سانت كاترين جنوب القاهرة
- 4- مدينة الجيزة تعد عاصمة لمصر ولها تاريخ عريق
- 5- محمية البرلس يوجد بها ثعالب و غزلان

السؤال الرابع:- بم تفسر

- 1- تعتبر اثار النوبة من ابو سمبل إلي فيلة ذات اهمية كبيرة .
- لانه يضم الكثير من الاماكن الاثرية مثل معبدي ابو سمبل الكبير والصغير و معبد ايزيس في جزيرة فيلة
- 2- تعد مدينة القاهرة التاريخية من اهم واكبر المدن التراثية في العالم
- لانها تتميز بتعدد الاثار والمباني التاريخية التي تعبر عن تاريخ القاهرة الطويل

الدرس الثالث: الأماكن السياحية و الأثرية في بلدنا

اهم المفاهيم الواردة بالدرس:

- البعث: الحياة مرة أخرى بعد الموت
- الخلود: حياة ابدية لا موت بعدها



السؤال الأول:- اكتب ما تشير إليه العبارات التالية:-

1- بناء سياحي مرتفع بالقاهرة علي شكل زهرة اللوتس

.....

2- اعتقاد ديني عند المصريين القدماء علي اساسه بنيت الاهرامات

.....

3- الاسم الذي أطلقتها منظمة اليونسكو علي مدينة شرم الشيخ

.....

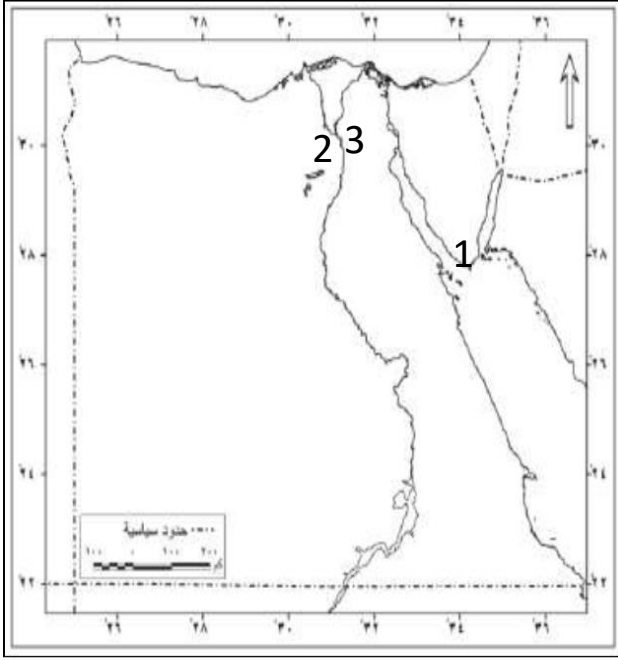
السؤال الثانى: أكمل العبارات الآتية بما يناسبها من كلمات:

- 1- الملك الذى شيّد تمثال ابو الهول هو
- 2- بنى المصريون القدماء الأهرامات الثلاثة فى منطقة
- 3- شيّد المصريون القدماء الأهرامات لاعتقادهم فى و
- 4- تم بناء الكنيسة المعلقة فوق ابراج
- 5- تم اختيار مدينة شرم الشيخ كأفضل مدينة للسلام على مستوى العالم من قبل منظمة

السؤال الثالث : ضع علامة صح امام العبارة الصحيحة و علامة خطأ امام العبارات الخاطئة:

- 1- الحضارة المصرية القديمة هى أولى الحضارات التى ظهرت على ارض مصر ()
- 2- يقع المتحف القومى للحضارة بمحافظة الجيزة ()
- 3- شيّدت الكنيسة المعلقة على انقاض احد ابراج حصن بابلليون ()
- 4- صمم تمثال ابو الهول بجسم أسد و رأس انسان ()
- 5- صمم المهندس الراحل نعم شبيب برج القاهرة على شكل زهرة اللوتس ()

السؤال الرابع : أمامك خريطة صماء لمصر أكتب مدلول الأرقام عليها :



1- مدينة عالمية سياحية

.....

2- محافظة بها الأهرامات

.....

3- محافظة بها المتحف القومي

للحضارة

السؤال الخامس : بم تفسر :-

1- بني المصريون القدماء الأهرامات علي هضبة مرتفعة.

(ج) لتكون بعيدة عن الفيضان.

2- نحت الملك خفرع تمثال ابو الهول.

(ج) ليكون رمزاً للقوة ولحماية مقابر الملوك من السرقة.

3- اختيار منظمة اليونسكو لمدينة شرم الشيخ كأفضل مدينة سلام علي مستوي العالم.

(ج) لأنها تتميز بمناخها المعتدل ومناظرها الطبيعية الخلابة مثل الجبال الشاهقة ومياه البحر الأحمر والشعاب المرجانية الملونة.

4) تسمية الكنيسة المعلقة بهذا الاسم.

(ج) لأنها بنيت علي الأبراج الجنوبية من حصن بابلليون وترتفع عدة أمتار عن سطح الأرض

الدرس الرابع : السياحة و اقتصاد بلدنا

اهم المفاهيم الواردة بالدرس:

السياحة: انتقال الافراد من مكان اقامتهم الى اماكن اخرى



الدخل القومي:- هو إجمالي الدخل الذي تحققه الأنشطة الاقتصادية في عام واحد

السؤال الأول :صوب ما تحته خط:-

- 1- مؤتمر النقل الذكي يعد ضمن السياحة التاريخية
- 2- توجد في مصر مناطق سياحية محدودة
- 3- مهرجان الموسيقى العربية نوع من انواع السياحة العلاجية
- 4- تعد السياحة المصدر الثاني للعملات الاجنبية في مصر

السؤال الثاني:- اكمل العبارات الاتية بما يناسبها من كلمات:-

- 1- توفر السياحة فرص للشباب
- 2- تقع مدينة شرم الشيخ و دهب على ساحل
- 3- تسوق الدولة للسياحة باستخدام الوسائل الحديثة
- 4- تعتبر مكتبة الاسكندرية من اماكن السياحة
- 5- من اهم المعارض السنوية التي تقام فى مصر معرض

السؤال الثالث : ضع علامة صح امام العبارة الصحيحة و علامة خطأ امام العبارات الخاطئة:-

- 1- يقتصر زيارة السياح الى مصر على السياحة الترفيهية فقط ()
- 2- زيارتك لعيون موسى فى سيناء تعد سياحة ثقافية ()
- 3- دار الاوبرا و مكتبة الاسكندرية أماكن للسياحة الثقافية ()

- 4- يجب ان تراعى الانشطة السياحية حقوق ذوى الاحتياجات الخاصة
()
- 5- حضور اخيك الأكبر مؤتمر شباب العالم فى شرم الشيخ يعد
سياحة علاجية
()

السؤال الرابع:- بم تفسر:-

- 1- قدوم السياح لزيارة بلدنا.
ج) لأغراض متعددة مثل التنزه والترفيه والعلاج وزيارة الاماكن التاريخية أو حضور المؤتمرات والمهرجانات
- 2- أهمية السياحة في مصر.
ج) 1- دعم الاقتصاد المصري
2- توفير فرص عمل للشباب
3- المصدر الاول للعملات الاجنبية
4- تسهم بنحو 12% من اجمالي الدخل القومي
- 3- تدعم مصر السياحة المستدامة.
ج) للحفاظ علي البيئة والموارد الطبيعية في المنشآت السياحية والتعامل الامن مع المخلفات

الدرس الخامس :مسئوليتنا نحو تراث بلدنا



طريق الكباش حالياً



طريق الكباش قديماً

السؤال الأول : صوب ما تحته خط

- 1- من السلوكيات الايجابية الكتابة علي الاثار
- 2- من مشروعات الحفاظ علي التراث العمراني مشروع تطوير شارع فؤاد
- 3- دور المواطن للحفاظ علي الاثار صيانتها و ترميمها

السؤال الثاني :- أكمل العبارات الاتية بما يناسبها من كلمات :-

- 1- عند زيارتك للمتحف المصري يجب اتباع و
- 2- يجب عدم استخدام الكاميرا عند التصوير لانه يؤثر سلبا على بعض القطع الاثرية.
- 3- قامت الدولة باصدار لمعاقبة تجار الاثار.
- 4- يعتبر ترميم مسجد احمد بن طولون احد مشروعات تطوير منطقة

السؤال الثالث : ضع علامة صح امام العبارة الصحيحة و علامة خطأ امام العبارات الخاطئة:-

- 1- التقاط الصور و انت ملاصق للقطع الاثرية من السلوكيات الصحيحة ()
- 2- ازالة عشوائيات نزلة السمان يعبر عن اهتمام الدولة بتطوير منطقة الاهرامات ()
- 3- يمكن لاي فرد ان يشارك فى عملية ترميم الاثار ()
- 4- تساعد الدولة فى تنظيم عملية البحث و التنقيب عن الاثار ()

السؤال الرابع:- فسر بذكر السبب:-

- 1- تطوير الدولة لمنطقة الاهرامات.
ج) لاسترجاع الصورة التاريخية للمنطقة وتعظيم قيمتها الاثرية
- 2- تبذل الدولة جهودا عدة للحفاظ علي الاثار.
ج) نظرا للقيمة التاريخية والاقتصادية للمناطق الاثرية والسياحية
- 3) اهتمام الدولة بتطوير القاهرة التاريخية
ج) لأنها تعد من اهم المدن التراثية القديمة علي مستوي العالم ولحماية المباني الاثرية والتاريخية مثل منطقة الازهر والغورية والدرب الاحمر وشارع المعز

الوحدة الثالثة : الدرس الأول

تطور وسائل النقل وتأثيرها في المجتمع.

- ملخص الدرس:-

تطور وسائل النقل.

- النقل البري:

- 1- كانت تستخدم الدواب في البداية.
- 2- ثم ظهرت العربات الحربية في عهد الهكسوس.
- 3- ثم أنشأت مصر السكك الحديدية.
- 4- ثم ظهرت السيارات.



- النقل المائى:

- 1- إستخدم الإنسان القديم القوارب.
- 2- ثم استخدم القوارب عبر البحار فى التجارة.
- 3- تطورت وسائل النقل المائى إلى البواخر وناقلات النفط والغواصات.



- النقل الجوي:

- 1- أول محاولة للطيران محاولة عباس بن فرناس.
- 2- نجح الاخوان رايت فى الطيران الحقيقى عام 1903 م
- 3- تأسست شركة مصر للطيران أول شركة طيران فى الشرق الأوسط.



السؤال الأول : بم تفسر

- استخدم المصريين القدماء الدواب ؟
حيث استخدموها فى حمل الأشياء
- اثرت وسائل النقل فى حياة الشعوب عبر العصور ؟
حيث ساعدت على التبادل التجارى والتواصل الحضارى بين
الدول

السؤال الثانى : ما النتج المترتبة على

- استخدام الدراجات بدلاً من السيارات ؟
يخفف من ازدحام المرور خاصة القاهرة

السؤال الثالث : أكمل العبارات الآتية:-

1- العربات التى دخلت مصر مع غزو الهكسوس هى عربات تجرها

.....

2- تم إختراع أول طائرة على يد

3- أنشئ متحف السكك الحديدية فى محافظة

السؤال الرابع : ضع علامة صح أو خطأ أمام كل عبارة:-

- 1- مصر للطيران هي أول شركة طيران على مستوى العالم ()
- 2- تعد مصر الثانية في افريقيا والشرق الاوسط في مجال انشاء
السكك الحديدية ()
- 3- يعد جابر بن حيان صاحب اول محاولة طيران قديمًا ()

السؤال الخامس : صوب ما تحته خط فيما يلي:-

1- أول سيارة دخلت مصر كانت تعمل بطاقة الشمس

2- تم اختراع الماكينات بعد الثورة العرابية

الدرس الثانى أنواع وسائل النقل فى حياتى

ملخص الدرس: أنواع وسائل النقل.

1- النقل البرى: (أنواعه)

- سكك حديدية.

- سيارات.

• وسائله:

- السيارات – الشاحنات – القطارات.

2- النقل المائى: (أنواعه)

- النقل البحرى – النقل النهري.

• وسائله:

- المراكب – السفن – الأتوبيس النهري.

• مميزاته:

- نقل البضائع كبيرة الحجم وثقيلة الوزن.

• أهم الموانى البحرية:

- على البحر الحمر : الغردقة – سفاجا

- على البحر المتوسط : الاسكندرية – دمياط.

3) النقل الجوى: أنواعه ووسائله:

- الطائرات.

* مميزاته : السرعة * عيوبه: إرتفاع تكاليفه.

* من أهم المطارات:-

- القاهرة الدولية – مطار أسوان الدولي - برج العرب بالاسكندرية.

السؤال الأول : بم تفسر

- 1- أهمية النقل الجوى ؟
(ج) حيث يتميز بالسرعة والأنتشار وتخطى المرتفعات .
- 2- استخدام وسائل النقل المستدام الأمانة والحديثة ؟
(ج) لخفض معدلات تلوث الهواء وتوفير استخدام الوقود.
- 3- تسعى الدولة إلى إنهاء مشروع القطار الكهربائى السريع ؟
(ج) لربط مدينة العين السخنة بمدينة العلمين الجديدة مروراً بالعاصمة الإدارية الجديدة.

السؤال الثانى : أكمل العبارات الآتية:-

- 1- شاركت مصر فى مؤتمر النقل المستدام الذى عقد فى
- 2- تعد مصر أول دولة عربية وإفريقية أنشأت
- 3- ارخص انواع النقل فى مصر هو النقل
- 4- اذا كنت من سكان العاصمة فمطار هو أقرب المطارات اليك.
- 5- يربط مترو الانفاق بين ثلاث مدن مصرية وهى

‘ ‘

السؤال الثالث: ضع كلمة صح او خطأ امام العبارات الآتية :

- 1- النقل المائي هو أسرع انواع النقل في مصر ()
- 2- يتميز النقل الجوي بالسرعة لكن تكلفته عالية ()
- 3- أنشأت الدولة الكباري لتخفيف الضغط المرورى في مصر ()
- 4- تشجع الدولة علي استخدام وسائل النقل التي تعتمد علي مصادر الطاقة النظيفة ()
- 5- يتم النقل البحري عن طريق نهر النيل ()

السؤال الرابع : صنف وسائل النقل التالية الى نقل جوى ومائى وبرى .

(مونوريل – غواصة – الاتوبيس النهري – طائرة حربية)

نقل جوى	نقل مائى	نقل برى

الدرس الثالث :
قواعد واخلاقيات استخدام وسائل النقل

ملخص الدرس: قواعد المرور.

قواعد المشاه	قواعد قيادة السيارات
1- استخدام كوبرى او نفق المشاه	1- تحرك السيارات فى مسار محدد
2- السير دائما على الرصيف	2- عدم تجاوز السرعة المحددة
3- الانتباه لاشارات المرور اثناء عبور الطريق	3- اتباع العلامات المرورية
	4- عدم استخدام الهاتف المحمول أو تناول الطعام اثناء القيادة


العلامات المرورية



2- علامات ارضية



1- علامات ارشادية



4- علامات ضوئية



3- علامات الزامية



6- علامات المنع



5- علامات تحذيرية

• جهود الدولة لتنظيم حركة المرور:

- إصدار قانون المرور:

وضع كاميرات على الطرق وملصقات الكترونية للسيارات.

• آداب استخدام وسائل النقل:

- عدم استخدام مقاعد كبار السن أو المرضى.

- عدم الكتابة على وسائل النقل.

- إفساح الطريق لسيارة الإسعاف.

- عدم القاء الحجارة على القطارات.

السؤال الأول : بم تفسر

1- عدم إلقاء الحجارة على القطارات أثناء سيرها ؟

لأن ذلك يسبب أضراراً للقطار والركاب

2- الألتزام بقواعد وآداب المرور ؟

للحفاظ على الأرواح والتقليل من الحوادث

السؤال الثاني : أكمل العبارات الآتية:-

1- يجب عدم جلوس فى المقاعد الأمامية للسيارة.

2- اذا اردت عبور طريق سريع فعليك باستخدام

أو للعبور.

- 3- تقوم الدولة بوضع لمراقبة سرعة السيارات على الطريق.
- 4- اذا رأى والدك الضوء الاحمدي فى اشارة المرور اثناء القيادة فعليه أن
- 5- يجب عدم التحدث فى اثناء القيادة لتفادى الحوادث.
- 6- تنقسم علامات المرور الى اقسام.

السؤال الرابع : بم تفسر:-

- 1- اهمية وجود كاميرات مراقبة على الطرق.
- جـ (لمعرفة مدى الالتزام بقواعد المرور و حصر أماكن الكثافات المرورية و التعامل معها
- 2- اصدار قانون المرور.
- جـ (لتنظيم حركة المرور

السؤال الخامس : ما الاداب التى يجب ان نلتزم بها فى وسائل النقل.

.....

الدرس الرابع

تطور وسائل الاتصال وتأثيرها في المجتمع

ملخص الدرس: تطور وسائل الاتصال

وسائل الاتصال في العصر الحديث	وسائل الاتصال في العصور التاريخية	وسائل الاتصال في عصور ما قبل التاريخ
1- التليغراف	1- الرسائل	1- الدخان
2- الهاتف	2- الحمام	2- الاصوات العالية
3- الانترنت	الزاجل 3- البريد	3- قرع الطبول

● مميزات شبكة الانترنت:

- 1- جعل العالم قرية صغيرة.
- 2- توفير انواع من الترفيه.
- 3- التواصل اسهل واسرع.
- 4- العمل عن بعد.
- 5- التحول الرقمي في مختلف هيئات الدولة.

● سلوكيات يجب تجنبها عند استخدام الانترنت:

- 1- نشر الشائعات.
- 2- مشاركة معلوماتنا مع اشخاص لانعرفهم.
- 3- اهدار الوقت على الإنترنت.

السؤال الأول : ما النتائج المترتبة على

- 1- إهدار كثير من الوقت على شبكات التواصل الاجتماعي يؤثر على دراستك وأهمال الهوايات المفيدة كما يؤدي إلى التباعد بين أفراد الأسرة
- 2- فوائد شبكة الأنترنت ؟
سرعه الحصول على المعلومات .

السؤال الثاني : اكمل العبارات الآتية:-

- 1- استخدام الإنسان قرع الطبول للتواصل مع الآخرين في
- 2- بدأت بمعرفة الانسان للكتابة.
- 3- استخد الانسان قديماً ورق للكتابة عليه.
- 4- إذا اردت استخراج شهادة الكترونية يمكنك استخراجها من خلال موقع
- 5- بدأ الانسان القديم تحذير الآخرين من الاخطار عن طريق ثم الاصوات العالية ثم قرع الطبول.
- 6- الجهاز الذى تم اختراعه بعد التلغراف هو

السؤال الثالث :- رتب وسائل الإتصال التالية حسب تطورها من الأقدم

إلى الأحدث:-

(الحمام الزاجل – شبكة الإنترنت – الدخان – قرع الطبول –

التليغراف)

1- -2

3- -4

5-

السؤال الرابع : ضع علامة صح أو خطأ أمام كل عبارة:-

1- التحدث مع اشخاص غرباء عبر الانترنت من السلوكيات

الصحية ()

2- كان اول خط هاتفى فى مصر يصل بين القاهرة والسويس ()

3- انشأت وزارة التربية والتعليم منصة إلكترونية لتلقى طلبات لقاح

فيروس كورونا ()

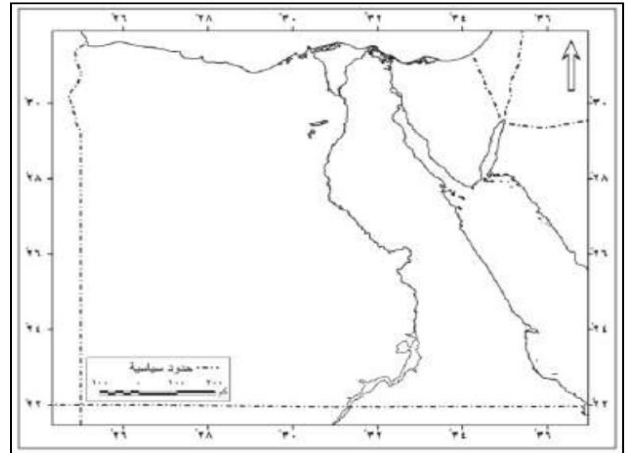
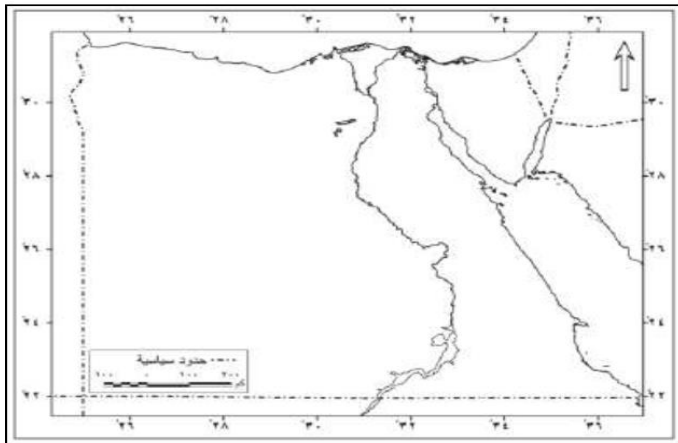
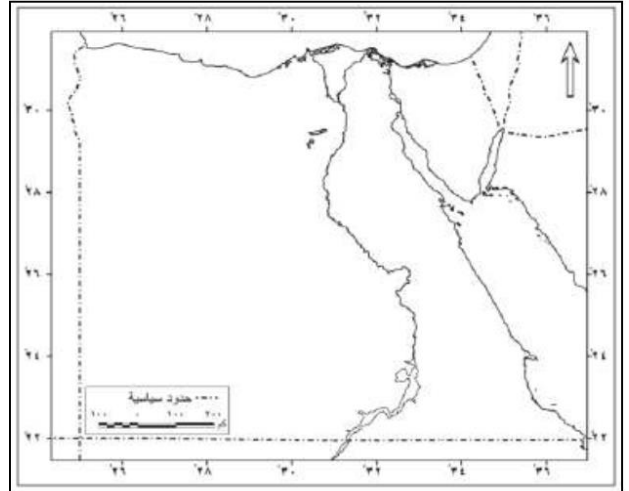
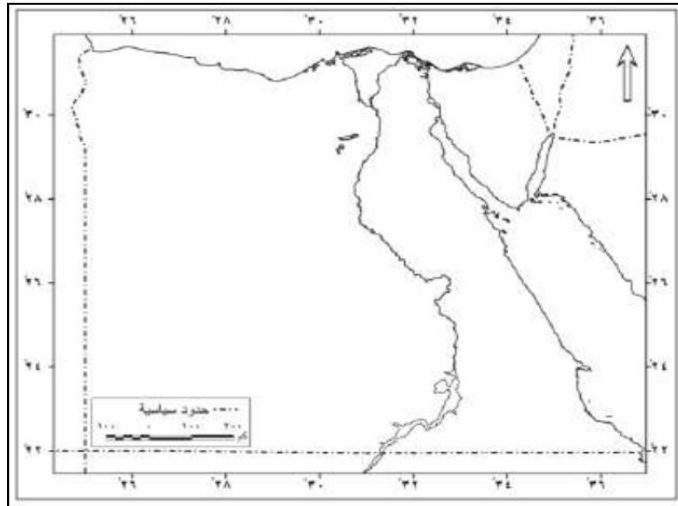
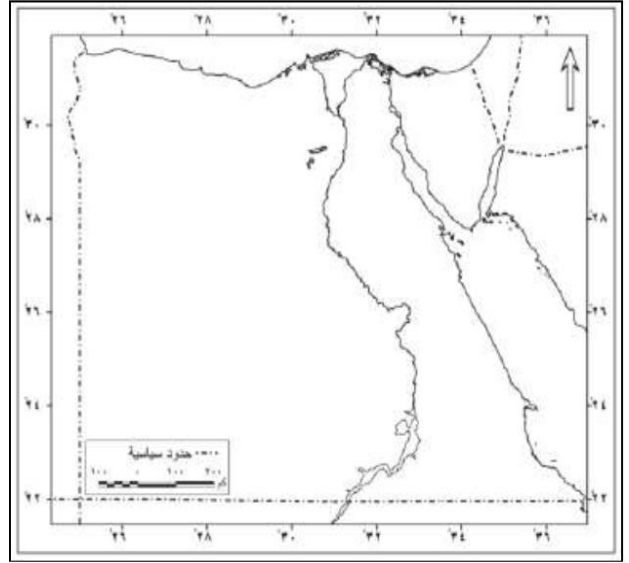
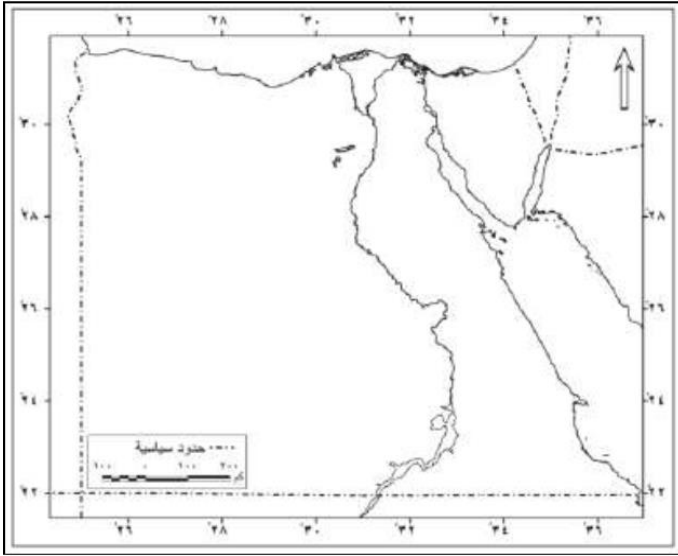
شخصيات مؤثرة

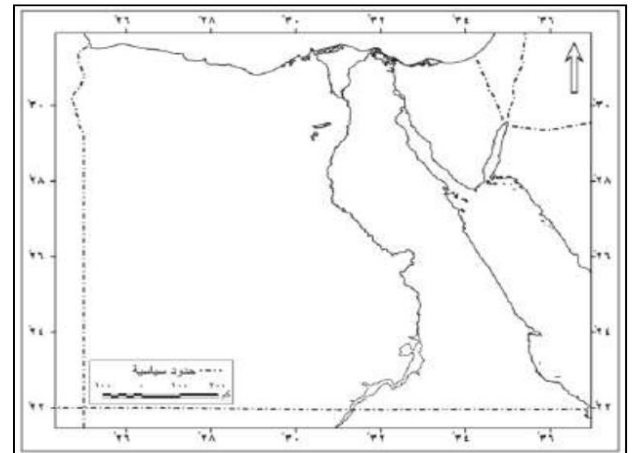
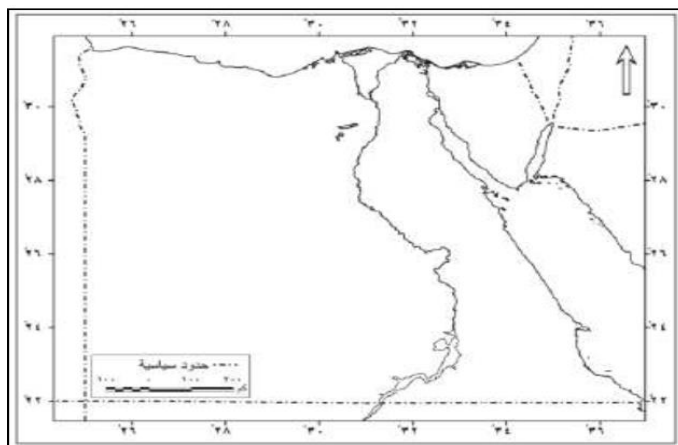
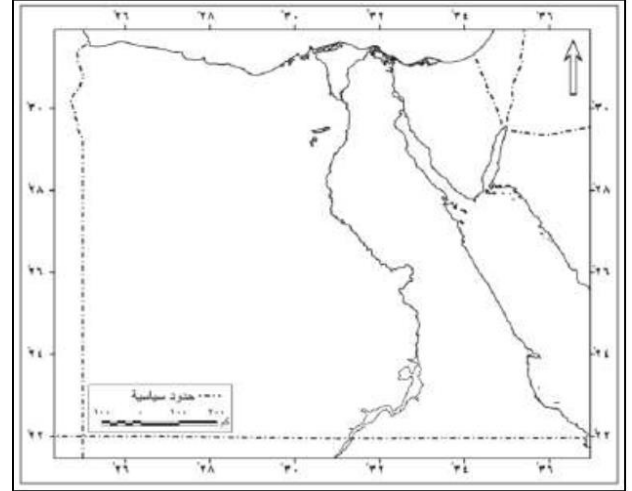
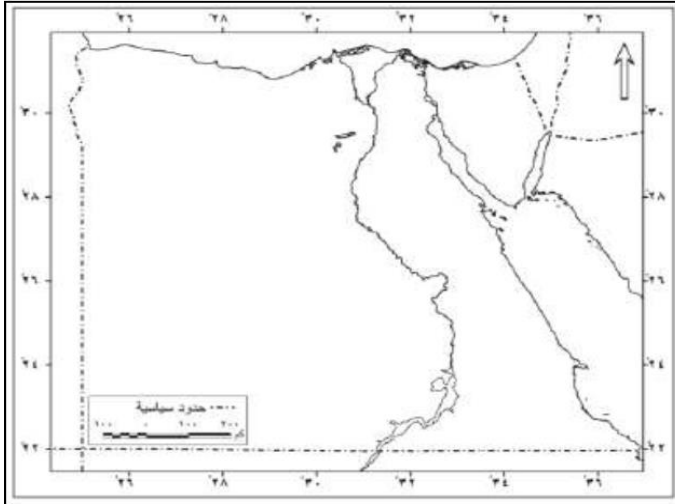
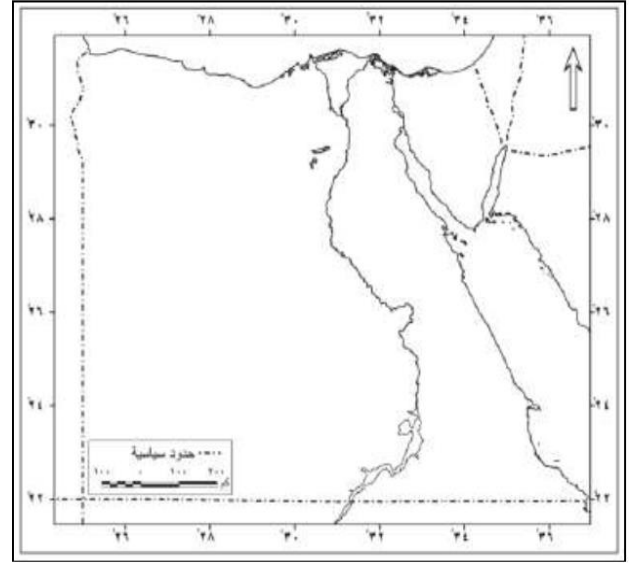
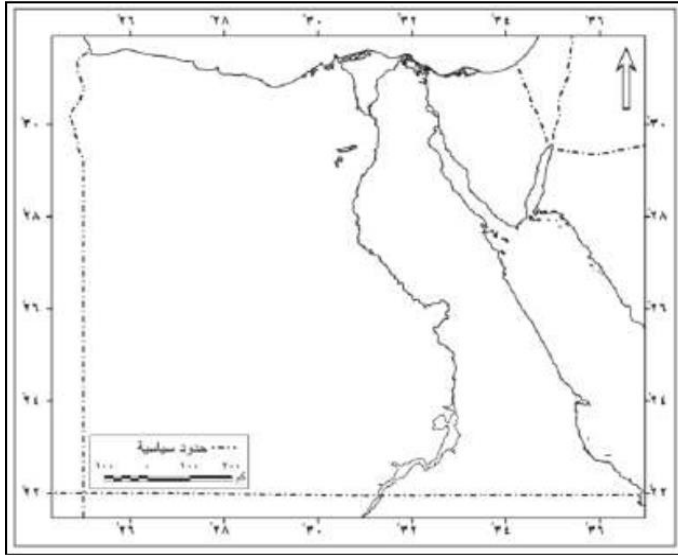
1- الملك خوفو

- هو أحد ملوك الأسرة الرابعة
- تولى عرش مصر بعد الملك سنفرو
- صاحب الهرم الأكبر
- نشطت التجارة فى عهد الملك خوفو الذى أرسل بعثات إلى
سيناء للحصول على الفيروز والنحاس

2- الملكة حتشبسوت

- أشهر ملكات مصر فى الدولة الحديثة .
- لقبت بالزوجة الملكية العظيمة وسيدة كل الأراضى .
- تميز عهدها بالاستقرار الأقتصادى .
- أرسلت رحلات تجارية إلى بلاد بونت الصومال حالياً لجلب
البخور والأبنوس والعاج والحيوانات المفترسة والأخشاب
والأحجار الكريمة .





مع تمنيات أسرة الدراسات الاجتماعية بمزيد من التفوق والنجاح