



St Fatima Language Schools®
Al Hegaz

رؤية المدرسة: بيئة متميزة لتعليم راقٍ.

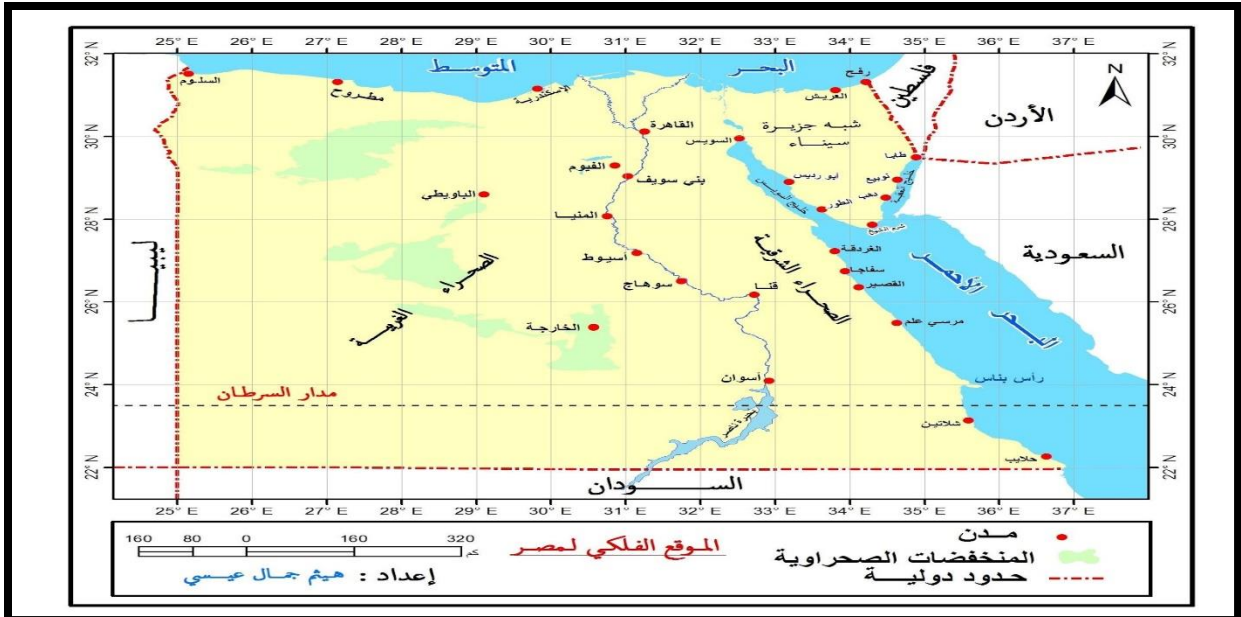
مدرسة سانت فاتيما - الحجاز

الاسم :
الفصل :
اسم المدرس :

الدراسات الاجتماعية للصف الخامس الابتدائي

الفصل الدراسي الثاني

للعام الدراسي 2023 \ 2024



تحت اشراف رئيس قسم الدراسات الاجتماعية
أ/ عصمت العدل

الدرس الأول: نمو السكان وتوزيعهم في بلدنا

• أهم المفاهيم الواردة بالدرس :

1- الزيادة الطبيعية : الفرق بين عدد المواليد و عدد الوفيات .



2- الهجرة : انتقال الافراد من مكان لآخر.



3- الكثافة السكانية :

هي النسبة بين عدد السكان و مساحة الارض التي يعيشون عليها.



س1- اختر الإجابة الصحيحة مما بين القوسين :-

- 1- انخفض عدد المواليد في مصر بسبب
(تنظيم الأسرة - التقدم الطبي - الزواج المبكر - الرعاية الصحية)
- 2- انخفض عدد الوفيات في مصر نتيجة
(زيادة الإنجاب - التقدم الطبي - الزواج المبكر - انتشار الأمراض)
- 3- تغير اعداد السكان بسبب الزيادة الطبيعية و الهجرة يسمى
(التعداد السكاني - الكثافة السكانية - النمو السكاني - الندرة السكانية)
- 4- احد العوامل البشرية التي أدت لندرة السكان في محافظات الحدود الصحراوية
(نقص الخدمات - سهولة المواصلات - وفرة الخدمات - انشاء الطرق)
- 5 - احدى المحافظات الجاذبة لسكان
(البحر الأحمر - مطروح - الاسكندرية - الوادي الجديد)

س2- اكتب كلمة (صواب) أمام العبارة الصحيحة وكلمة (خطأ) أمام العبارة غير

الصحيحة

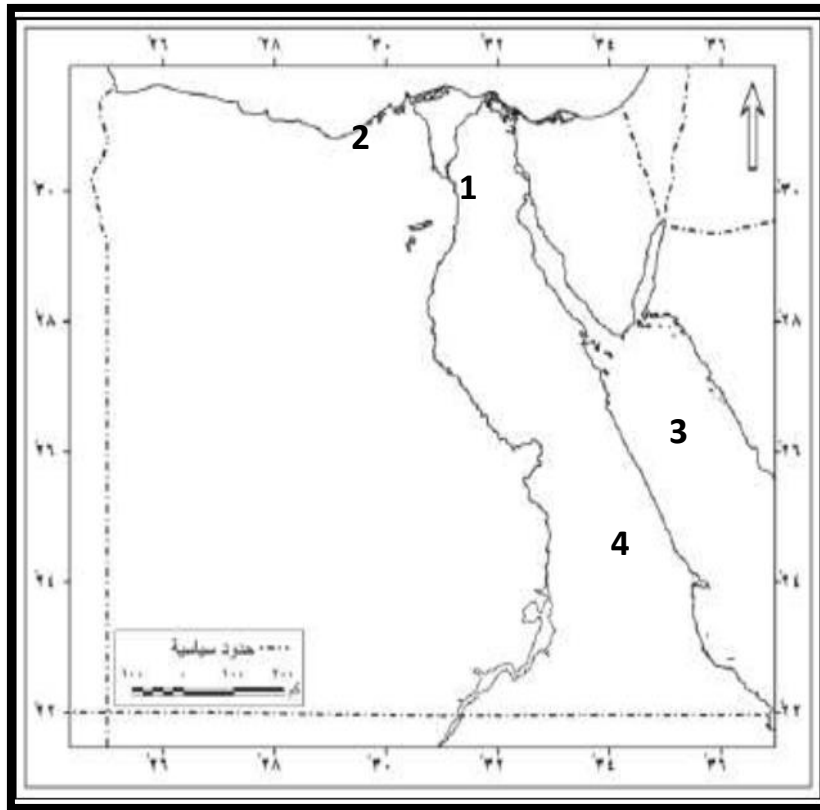
- 1- تنقسم الهجرة إلى هجرة داخلية و خارجية . ()
- 2- تظهر العشوائيات نتيجة الهجرة الخارجية . ()
- 3- تعد محافظة القاهرة من المحافظات الطاردة للسكان . ()
- 4- يتساوى توزيع السكان على أرض مصر . ()
- 5- تحتل مصر المركز الرابع عشر افرقياً من حيث عدد السكان . ()

س3- أكمل العبارات التالية بما يناسبها من كلمات :

- 1- النسبة بين عدد سكان مصر و مساحتها يسمى
- 2- يزيد عدد السكان بسبب الزيادة الطبيعية و
- 3- تسببت هجرة سكان الريف الى القاهرة الى ظهور
- 4- انخفض عدد الوفيات في مصر بسبب
- 5- الفرق بين اعداد المواليد و اعداد الوفيات يسمى

س4 : امامك خريطة صماء لمصر اكتب مدلول الارقام عليها :

- 1- أعلي مدن مصر كثافة سكانية
- 2- من المحافظات الجاذبة للسكان
- 3- البحر
- 4- محافظة يندر بها السكان



س5- فسر ما يلي :-

1- انخفاض عدد الوفيات في مصر .

(ج) بسبب التقدم الطبي و الرعاية الصحية

2- انخفاض عدد المواليد في مصر

(ج) بسبب ارتفاع الوعي لدى الشباب بضرورة تنظيم الأسرة - الحد من ظاهرة

الزواج المبكر

3- تركيز السكان في محافظات الوادي والدلتا.

(ج) بسبب توافر المياه العذبة والتربة الخصبة و استواء السطح و توافر الخدمات

و سهولة المواصلات

الدرس الثاني : الهرم السكاني لمصر

• أهم المفاهيم الواردة بالدرس :

1- التركيب النوعي : تقسيم السكان حسب النوع (ذكور - اناث)

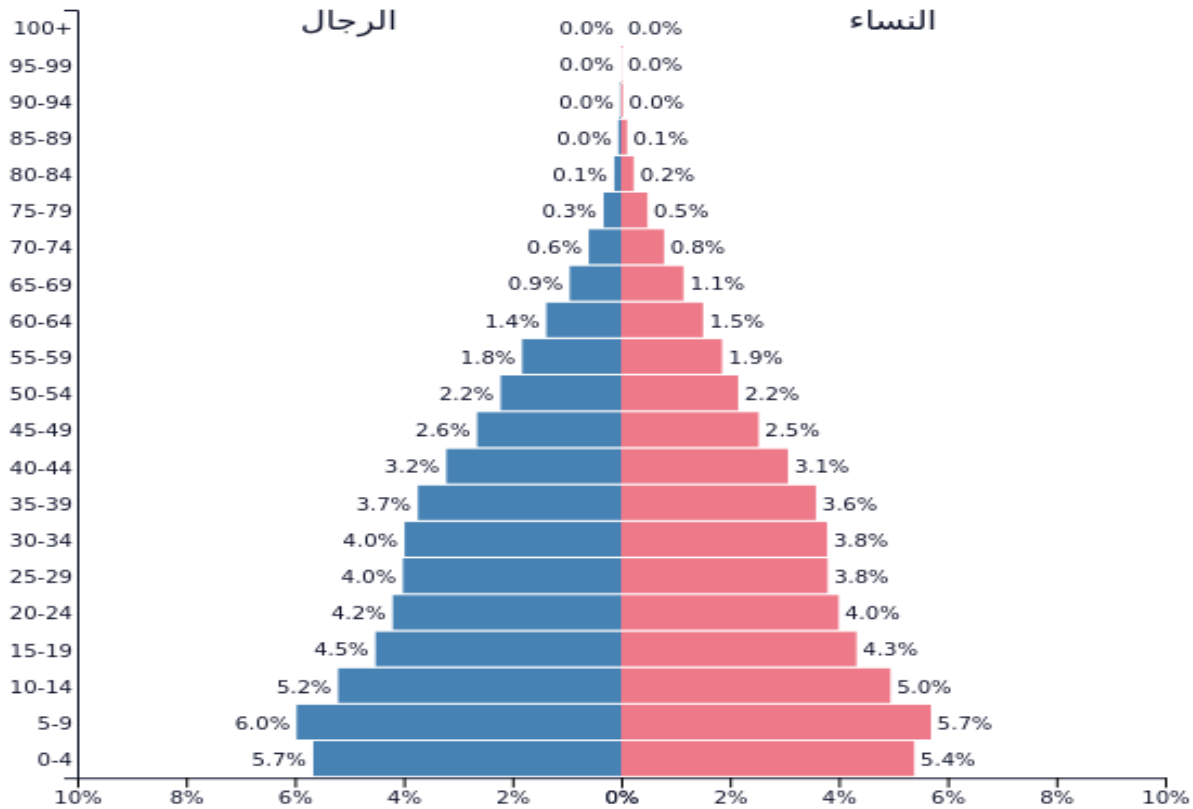


2- التركيب العمري : تقسيم السكان حسب الفئة العمرية



3- الهرم السكاني : هو عبارة عن رسم بياني يوضح توزيع السكان من حيث العمر

و النوع



PopulationPyramid.net

مصر - 2022
التعداد السكاني: 110,990,103

4- التركيب الاقتصادي : تصنيف السكان حسب النشاط الاقتصادي الذي يمارسونه

س1- اكمل العبارات التالية بما يناسبها من كلمات :-

- 1- تصنيف السكان إلي ذكور وإناث يعرف باسم التركيب
- 2- تصنيف السكان إلي أطفال وكبار سن يسمى التركيب
- 3- تتمثل إحصاءات الإناث في الهرم السكاني باللون
- 4- الفئة المنتجة في مصر هي فئة
- 5- الهرم السكاني المصري يتسم بالقاعدة

س2- صوب ما تحته خط :-

1- الرسم البياني الذي يوضح عمر ونوع السكان يسمى رسمًا بيانيًا خطيًا

.....

2- الهرم السكاني لمصر يتسم بالقاعدة الضيقة .

.....

3- قاعدة الهرم السكاني المصري تحتلها فئة كبار السن .

.....

4- إذا انخفض عدد المواليد فيتسم الهرم السكاني بالقاعدة العريضة .

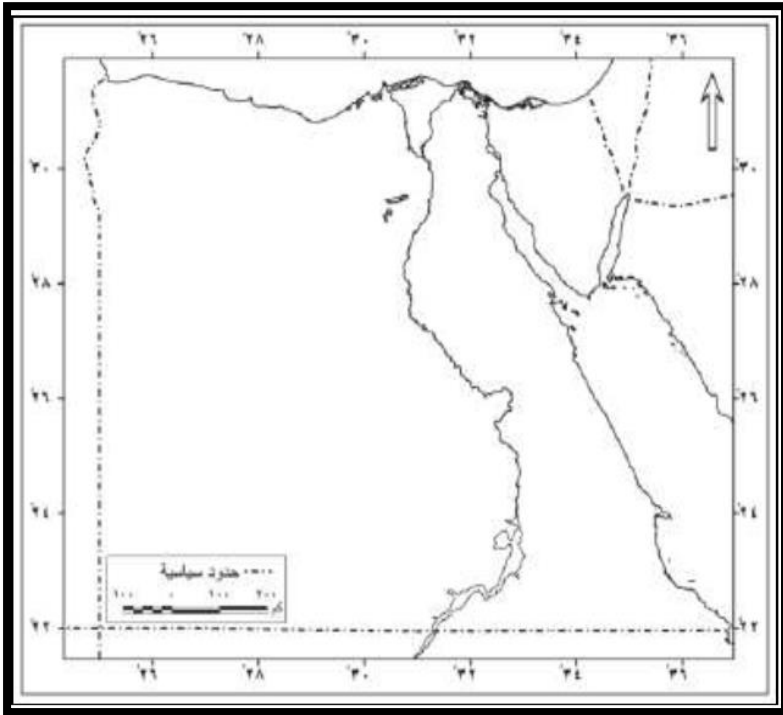
.....

س3- اكتب كلمة (صواب) أمام العبارة الصحيحة وكلمة (خطأ) أمام العبارة غير

الصحيحة

- 1- تعد فئة كبار السن من الفئات المعالة . ()
- 2- نسبة الذكور في مصر أكبر من نسبة الاناث . ()
- 3- يتسم الهرم السكاني بالقاعدة العريضة . ()
- 4- توجد فئة كبار السن اسفل الهرم السكاني المصري . ()
- 5- تلون احصاءات الاناث في الهرم السكاني باللون الوردى . ()

س4 : امامك خريطة صماء لمصر اكتب مدلول الارقام عليها :



- 1- أهم مصدر من مصادر المياه
العذبة
- 2- الصحراء
- 3- البحر
- 4- مدينة تتميز بالكثافة السكانية
المرتفعة جدا

س5- فسر ما يلي :-

1- أهمية الهرم السكاني .

ج) تساعد بيانات الهرم السكاني على تقدير الاحتياجات المختلفة لكل فئة عمرية في الحاضر و المستقبل من تعليم و صحة و مرافق او خدمات و فرص عمل

2- الهرم السكاني لمصر يتسم بالقاعدة العريضة .

ج) بسبب زيادة المواليد

3- أهمية الفئة العمرية (من 15إلي 64 سنة) في مصر .

ج) لأنها فئة منتجة و تعول صغار السن و كبار السن

س6- أكتب نتيجة واحدة ترتبت علي ما يلي :-

1- ارتفاع نسبة صغار السن في مصر .


ج) يؤدي ذلك الى ارتفاع الضغط على الفئة المنتجة

الدرس الثالث : مشكلة الزيادة السكانية في بلدنا

أهم المفاهيم الواردة بالدرس :

- مشكلة الزيادة السكانية :

تتمثل في زيادة عدد السكان بنسبة اكبر من الموارد و الخدمات المتاحة



س1- أكمل العبارات التالية بما يناسبها من بنك الكلمات :

- 1- تظهر مشكلة الزيادة السكانية عندما يتجاوز عدد السكان
- 2- أحد أهم أسباب مشكلة الزيادة السكانية
- 3- تؤدي مشكلة الزيادة السكانية إلى إعاقة
- 4- يواجه المواطنون مشكلة الزيادة السكانية عن طريق
- 5- أدى تحسن الرعاية الصحية إلى تراجع

س2- اختر الإجابة الصحيحة مما بين القوسين :-

- 1- تجاوز عدد السكان للموارد المتاحة يسمى
- (كثافة سكانية - مشكلة الزيادة السكانية - زيادة الهجرة الداخلية - هجرة خارجية)
- 2- إحدى طرق حل مشكلة الزيادة السكانية
- (تنظيم الأسرة - الزواج المبكر - تفضيل الذكور على الإناث - إيقاف مشروعات التنمية)
- 3- أحد أسباب مشكلة الزيادة السكانية
- (تناقص نصيب الفرد من الموارد - ضرورة توفير فرص عمل - إعاقة مشروعات التنمية - تفضيل الذكور على الإناث)

4- يؤدي تحسن الرعاية الصحية إلي

(تقلص فئة صغار السن - ارتفاع عدد الوفيات - تناقص متوسط عمر الفرد - انخفاض عدد وفيات الرضع)

5- تقوم الدولة المصرية بمجهود بمواجهة مشكلة الزيادة السكانية منها

(زيادة استهلاك الموارد المتاحة - اعاقة مشروعات التنمية - التوسع في مشروعات التنمية - ترشيد استهلاك الموارد)

س3- اكتب كلمة (صواب) أمام العبارة الصحيحة وكلمة (خطأ) أمام العبارة غير

الصحيحة

- 1- انجاب العديد من الاطفال يؤدي الى النمو السكاني . ()
- 2- يزداد انجاب الاطفال في الحضر اكثر من الريف . ()
- 3- تؤثر الزيادة السكانية ايجاباً على الموارد و البيئة . ()
- 4- اصدرت الدولة العديد من القوانين للحد من الزواج المبكر . ()
- 5- مشكلة الزيادة السكانية تؤدي لتنمية الدولة . ()

س4- فسر ما يلي :-

1- تراجع وفيات الأطفال الرضع و زيادة متوسط عمر الفرد .

(ج) بسبب تحسن الرعاية الصحية

2- مشكلة الزيادة السكانية تزيد الاعباء على الدولة المصرية .

(ج) بسبب زيادة الطلب على فرص العمل و الضغط على الخدمات

3- تؤدي مشكلة الزيادة السكانية لزيادة التلوث .

(ج) لانه كلما زاد عدد السكان ادى الى زيادة النفايات و زيادة تلوث البيئة

س5- ما النتائج المترتبة علي :-

1- كثرة انجاب الأطفال خاصة في الريف .

(ج) ادى لزيادة النمو السكاني في مصر و ظهور مشكلة الزيادة السكانية

2- تحسن الرعاية الصحية .

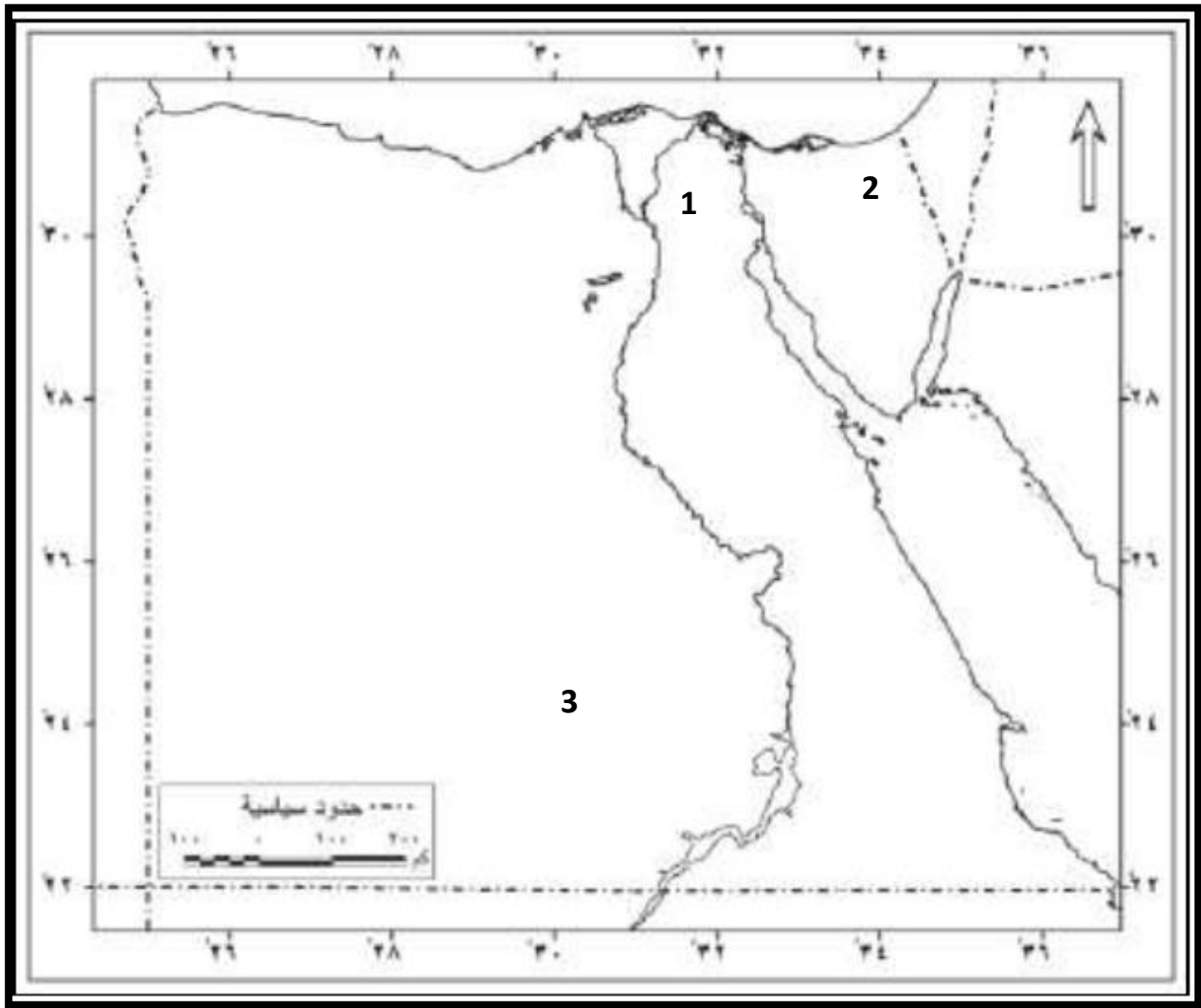
(ج) ادى لتراجع معدل الوفيات الاطفال الرضع و زيادة متوسط عمر الفرد

س6 : امامك خريطة صماء لمصر اكتب مدلول الارقام عليها :

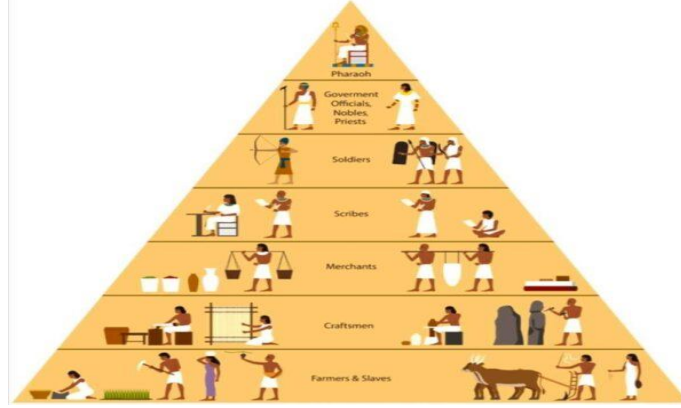
1- يشير رقم 1 الي اعلي مدن ازدحاما بالسكان

2- يشير رقم 2 الي محافظة صحراوية

3- محافظة يقل بها عدد السكان



الدرس الرابع : الحياة الاجتماعية في بلدنا
(بين الماضي والحاضر)



طبقات المجتمع المصري

س1- اختر الإجابة الصحيحة مما بين القوسين :-

1- صنعت ملابس الملك والأغنياء قديماً من

(القطن - الجلد - الصوف - الحرير)

2- تكونت قاعدة الهرم طبقات المجتمع المصري القديم من

(الفلاحين والرعاة - الملك وأسرته - صغار الموظفين - كبار الكهنة)

3- صنعت ملابس عامة الشعب عند المصريين من

(الحرير - الكتان - القطن - الصوف)

4- أحد الألعاب الرياضية التي مارسها المصري القديم

(السنت - الجمباز - المصارعة - الباليه)

5- ارتبطت بعض أعياد المصري القديم بالزراعة منها عيد.....

(شم النسيم - الفطر - ميلاد الملك - الحصاد)

س2- صوب ما تحته خط :-

1- صنعت ملابس عامة الشعب قديماً من القطن .

.....

2- صنعت ملابس الملك والأغنياء قديماً من الكتان عالي الجودة والصوف .

.....

3- الإشراف علي الأعمال المتعلقة بالمنزل أحد ادوار الأب .

.....

4- اهتم المصريون القدماء بألعاب التفكير مثل الصيد .

.....

س3- اكتب كلمة (صواب) أمام العبارة الصحيحة وكلمة (خطأ) أمام العبارة غير

الصحيحة

- 1- ظهرت رياضة التحطيب في مصر قديماً ()
- 2- احتفل المصريون القدماء بعيد الفيضان و الحصاد ()
- 3- تولت المرأة حكم البلاد في مصر قديماً ()
- 4- اقتصر اهتمام الابناء في الاسرة المصرية القديمة على اللعب و اللهو ()
- 5- يعد اصحاب الحرف الصغيرة من اعلى الطبقات في مصر القديمة ()

س4- فسر مما يلي :-

- 1- أهمية دور الأب في الأسرة المصرية القديمة .
(ج) يرفع أفراد الأسرة و يعمل من اجل توفير احتياجاتهم
- 2- اختلاف الملابس في مصر القديمة .
(ج) بسبب اختلاف طبقات المجتمع في مصر القديمة
- 3- أهمية دور الأم في الأسرة المصرية القديمة
(ج) تقوم برعاية الابناء و تشرف على اعمال المنزل و تعمل في مجالات متعددة مثل الزراعة و التجارة و الطب


س5- اكتب نتيجة واحدة ترتب علي ما يلي :-

- 1- احترام المصري القديم للحياة الأسرية .
(ج) قامت الحياة الاسرية على المشاركة و التعاون بين جميع افراد الاسرة
- 2- تطبيق المجتمع المصري للعدالة بين أفراد المجتمع .
(ج) ساعد على استقرار المجتمع المصري و تقدمه

الدرس الخامس : الحياة الدينية في بلدنا
(بين الماضي والحاضر)

أهم المفاهيم الواردة بالدرس :

- 1- البعث : الحياة مرة أخرى بعد الموت
- 2- الخلود : العيش حياة ابدية لا موت بعدها
- 3- التحنيط : حفظ جسم المتوفي بعد الموت



س1- أكمل العبارات التالية بما يناسبها من كلمات :-

- 1- اعتقد المصريون القدماء أن (ماعت) هي آلهة
- 2- الدعوة إلي توحيد الآلهة عند المصريون القدماء كانت في عهد الملك
- 3- دعي الملك أمنحتب الرابع إلي عبادة الإله
- 4- شيد الملك أمنحتب الرابع مدينة
- 5- اعتقد المصريون القدماء البعث والخلود لذلك قاموا ببناء

س2- صوب ما تحته خط :-

- 1- رمز الملك أمنحتب الرابع للإله آتون بقرص القمر .
.....
- 2- شيد الملك أمنحتب الرابع مدينة اخيتاتون لعبادة الإله آمون .
.....
- 3- يقف المصري القديم عند موته في محكمة أمام 42 قاضيا يترأسهم الإله رع .
.....
- 4- يوضع قلب المتوفي علي ميزان العدالة مقابل زهرة اللوتس .
.....

س3- اكتب كلمة (صواب) أمام العبارة الصحيحة وكلمة (خطأ) أمام العبارة غير

الصحيحة

- 1- شيد الملك امنحتب الرابع مدينة اخيتاتون عاصمة له . ()
- 2- كان لكل اقليم معبود واحد . ()
- 3- امن المصري القديم بأنه سيحاسب على أفعاله بعد الموت . ()
- 4- عرف المصريون القدماء عبادة الاله الواحد في عهد الملك خوفو . ()
- 5- عرف شعب مصر التدين و القيم الحميدة و السلام منذ القدم . ()

س4- فسر العبارات الآتية :-

- 1- شيد الملك أمنحتب الرابع مدينة أخيتاتون .
(ج) لكي يتخذها عاصمة للبلاد و مركز لعبادة الإله اتون
- 2- حرص المصريون القدماء علي تحنيط جثث موتاهم .
(ج) لحفظ جثث الموتى بسبب اعتقادهم في البعث و الخلود
- 3- يبلغ عدد القضاة بمحكمة الموتى 42 قاضيا
(ج) بسبب انقسام البلاد قديما ل 42 اقليم فكان لكل اقليم معبود خاص به

س4- ما النتائج المترتبة علي :-

- 1- اعتقاد المصريون القداماء بالبعث والخلود .
(ج) قاموا ببناء المقابر و حفظ جثث الموتى عن طريق التحنيط
- 2- دعوة الملك أمنحتب الرابع لعبادة الإله آتون .
(ج) اطلق على نفسه اسم اخناتون و شيد مدينة اخيتاتون



الدرس الأول : انتصارات بلدنا عبر العصور



لوحة أحمس (طارد الهكسوس)

س1- أكمل العبارات التالية بما يناسبها من كلمات :-

- 1- تم توحيد جيوش الأقاليم وتنظيمها وتسليحها في عصر
- 2- تعرضت مصر في عصر الضعف الثاني لغزو
- 3- بطل التحرير وطارد الهكسوس هو.....
- 4- خاض الملك رمسيس الثاني الكثير من المعارك ضد
- 5- الاتفاق الذي تم بين مصر وإسرائيل بعد حرب أكتوبر 1973 يسمى

س2- أكتب كلمة (صواب) أمام العبارة الصحيحة وكلمة (خطأ) أمام العبارة غير

الصحيحة :-

- 1- نجح الملك خفرع في صد هجمات بعض القبائل علي أرض سيناء . ()
- 2- يعد الجيش المصري من أقدم الجيوش في العالم . ()
- 3- استطاع الملك تحتمس الثالث الانتصار في معركة قادش . ()
- 4- قتل والد أحمس وأخوه كامس في حربهما ضد الهكسوس . ()
- 5- ادت معاهدة السلام الى انخفاض مستوى معيشة الشعوب ()

س3- صوب ما تحته خط :-

1- يعد الملك كامس بطل التحرير .

.....

2- الموقع الحالي لمعركة مجدو في دولة لبنان .

.....

3- استطاع الملك أحمس الانتصار علي الحيثيين .

.....

س4- إلي من تنسب الأعمال التاريخية التالية :-

1- قاد حرب التحرير وطرد الهكسوس من مصر . (.....)

2- انتصر علي الحيثيين وعقد أول معاهدة سلام في التاريخ. (.....)

3- استطاع هزيمة أمراء آسيا في معركة مجدو . (.....)

4- شجعت ابنها علي طرد الهكسوس من مصر . (.....)

س5- فسر العبارات الآتية :-

1- يعد الملك أحمس بطل التحرير .

(ج)لانه استطاع تحرير مصر من غزو الهكسوس

2- خاض الملك تحتمس الثالث كثيراً من الحملات العسكرية .

(ج) لتأمين حدود مصر

3- قيام حرب أكتوبر 1973

(ج) لتحرير أرض سيناء من الاحتلال الإسرائيلي

4- أهمية تحقيق السلام لشعوب العالم

(ج) التركيز على مشروعات التنمية و تحسين حياة الشعوب عن طريق تجنب إنفاق

موارد الدول على الحروب

س4- ما النتائج المترتبة علي :-

1- انتشار الفوضى و الصراعات بين الحكام في عصر الضعف الثاني .

(ج) غزو الهكسوس لمصر في نهاية عصر الضعف الثاني و استمر حكمهم نحو قرن و نصف

2- انتصار الملك احمس على الهكسوس .

(ج) طرد الهكسوس من مصر و تأسيس الملك أحمس لعصر الدولة الحديثة

3- عقد معاهدة سلام بين الملك رمسيس الثاني و ملك الحيثيين

(ج) أدت المعاهدة لتحقيق الأمن و الأستقرار بين الطرفين

الدرس الثاني : مصر في عصري البطالمة والرومان

• اهم الشخصيات الواردة بالدرس :

1- الاسكندر الاكبر : قائد يوناني حكم مصر هو و حلفاؤه حوالي 3 قرون



2- بطلميوس الاول :

تولي الحكم بعد وفاة الاسكندر الاكبر واستكمل بناء مدينة الاسكندرية.



س1- أكمل العبارات التالية بما يناسبها من كلمات :-

- 1- الدولة التي تأسست في مصر بعد وفاة الإسكندر الأكبر مباشرة هي دولة.....
- 2- أحد الآثار التي تركها البطالمة في مصر
- 3- شرع الإسكندر الأكبر في التخطيط لبناء مدينة
- 4- انتصر الرومان علي البطالمة عام 31 ق. م في معركة
- 5- استغل الرومان أرض مصر لزراعة محصول
- 6- آخر ملوك البطالمة في مصر هي

س2- صوب ما تحته خط :-

- 1- آخر ملوك البطالمة في مصر بطليموس الأول .

.....

- 2- استغلت روما أرض مصر قديماً لزراعة محصول القطن .

.....

- 3- سقطت دولة البطالمة بعد معركة عين جالوت

.....

- 4- كانت عاصمة البطالمة في مصر مدينة السويس

.....

س3- أكتب كلمة (صواب) أمام العبارة الصحيحة وكلمة (خطأ) أمام العبارة غير

الصحيحة :-

- 1- اهتم الرومان بزراعة محصول الأرز في مصر قديماً . ()
- 2- انتصرت الملكة كليوباترا السابعة في معركة أكتيوم البحرية عام 31 ق.م. ()
- 3- تقرب الأسكندر الاكبر إلى المصريين فقام بزيارة معبد الكرنك. ()
- 4- رحب المصريون بالفتح العربي الإسلامي لمصر عام 641 م . ()
- 5- تدخلت روما في شئون مصر الداخلية في عهد كليوباترا السابعة ()

س3- فسر ما يلي :-

- 1- انهيار حكم الرومان في مصر قديماً .
(ج) بسبب الفتح العربي الإسلامي لمصر عام 641 م و قد رحب المصريون بهذا
الفتح للتخلص من حكم الرومان

- 2- إنشاء منارة الأسكندرية .
(ج) لإرشاد السفن في البحر

3- انهيار حكم البطالمة في مصر قديماً

- (ج) - بسبب ضعف ملوك البطالمة بعد بطلميوس الثالث
- تدخل روما في شئون مصر الداخلية - ثورات الشعب المصري ضد البطالمة
- هزيمة الملكة كليوباترا السابعة أمام الرومان في معركة أكتيوم البحرية 31 ق.م

س4- أكتب نتيجة واحدة ترتبت علي ما يلي :-

- 1- معركة أكتيوم البحرية عام 31 ق . م
(ج) هزيمة البطالمة و تحولت مصر لولاية رومانية .
- 2- ظهور المسيحية في مصر
(ج) أقبل المصريون على اعتناق الدين الجديد مما أدى لزيادة الاضطهاد الروماني
للمصريين

3- الفتح العربي الإسلامي لمصر

- (ج) انتهاء حكم الرومان لمصر

الدرس الثالث : العمارة والفنون في بلدنا

• اهم المفاهيم الواردة بالدرس :

- هرم : كلمة مشتقة من اللغة المصرية القديمة و تعني مبني منحدر الجوانب



- المسلات المصرية :

برج او عمود من الحجر له 4 جوانب و ينتهي بشكل هرمي صغير



س1- اختر الإجابة الصحيحة مما بين القوسين :-

- 1- معبد شيد من أجل إقامة طقوس الجنازة علي الملك هو معبد
(حتشبسوت - الأقصر - إيزيس - الكرنك)
- 2- أحد المعابد التي كان يقام بها الطقوس اليومية للآلهة هو معبد
(الدير البحري - الأقصر - أمنحتب الثالث - الرامسيوم)
- 3- أبنية أنشأها المصريين القدماء لحماية البلاد والدفاع عنها هي
(المعابد - الأهرامات - الحصون - القصور)
- 4- يمكننا رؤية مسلة الملكة حتشبسوت في معابد
(الكرنك - الأقصر - أبو سمبل - إيزيس)
- 5- أحد الآثار التي تعبر عن براعة المصريين في نحت التماثيل هو.....
(ابو الهول - معبد ايزيس - اللوحات الجدارية - لوحة نعرمر)



لوحة نارمر

س1- أكتب كلمة (صواب) أمام العبارة الصحيحة وكلمة (خطأ) أمام العبارة غير

الصحيحة

- 1- بدأت المرحلة الأولى لبناء المقابر قديماً من عدة مصاطب ()
- 2- بني المصري القديم المقابر من الطوب اللبن للحفاظ علي جسد المتوفي ()
- 3- الهرم الأكبر عبارة عن مقبرة تتكون من عدة مصاطب فوق بعضها ()
- 4- تعد مسلة الملكة حتشبسوت في معابد الكرنك من أشهر المسلات المصرية ()

س3- صوب ما تحته خط :-

1- بني حصن بوهين علي حدود مصر الغربية .

.....

2- يعد معبد الأقصر من المعابد الجنائزية .

.....

3- بني المصريون القدماء المنازل من الطوب الأحمر .

.....

س4- فسر ما يلي :-

1- تسمية المعابد الجنائزية بهذا الاسم .

(ج) لأنها تقام بها طقوس الجنازة على الملك المتوفي

2- أهمية فن الرسم عند المصريين القدماء .

(ج) كان المصري القديم يعبر بالرسم عن الأحداث السياسية و الاجتماعية

و العسكرية و الدينية و بعض الأنشطة الاقتصادية كالزراعة و التجارة

3- اختلاف شكل المنازل في مصر قديماً

(ج) لاختلاف طبقات المجتمع المصري القديم

4- خصص المصريون القدماء أرض الصحراء غرب نهر النيل لبناء المقابر .

(ج) لتكون بعيدة عن مخاطر الفيضان

س5- أكتب نتيجة واحدة ترتبت علي ما يلي :-

1- تشييد المصريين القدماء حصن بوهين

(ج) تأمين الحدود الجنوبية لمصر و توفير سكن الجنود .

2- تنوع الموارد الطبيعية في مصر

(ج) اعتمد المصري القديم عليها مثل الطوب اللبن و الجرانيت و الحجر الرملي و

الحجر الجيري في الفن و العمارة



حصن بوهين

الدرس الرابع : العلوم والآداب في بلدنا

اهم المفاهيم الواردة بالدرس :

الكتابة المصرية القديمة :

اخترعها المصري القديم ليعبر بها عن افكاره و يتواصل بها مع الاخرين

الكتابة الهيروغليفية :

مجموعة من الرسوم و الصور و تعد الخط الرسمي للدولة



الكتابة الهيراطيقية :

استخدمها رجال الدين للكتابة علي ورق البردي و قطع الخشب

الكتابة الديموطيقية :

استخدمها افراد الشعب في جميع نواحي الحياة العامة

س1- أكمل العبارات التالية بما يناسبها كلمات :-

1- "إذا كنت ماهراً في الكتابة فإن الناس أجمع يفعلون كل ما تقول " تشير

العبرة إلي أهمية وظيفة

2- استخدم المصريون القدماء في العلاج بعض الوصفات الطبية المصنوعة من

.....

3- عرف المصريون القدماء الكثير عن أجهزة جسم الإنسان الداخلية نتيجة

براعته في

4- استخدم المصريون القدماء عدة أدوات طبية مثل الملقاط و.....

5- عرف المصريون القدماء الأشكال الهندسية مثل المربع و.....

س2- صوب ما تحته خط :-

1- استطاع المصريون القدماء تخطيط المدن عندما برعوا في علم الحساب .

.....

2- المسئول عن تسجيل كل نواحي الحياة المصرية القديمة علي جدران المعابد

هو الطبيب.

.....

3- عرف المصريون القدماء أجهزة الجسم الداخلية بسبب براعتهم في علم الفلك.

.....

س3- أكتب كلمة (صواب) أمام العبارة الصحيحة وكلمة (خطأ) أمام العبارة غير

الصحيحة

1- ساعدتنا الكتابة على معرفة براعة المصريين القدماء و افكارهم و ثقافتهم

()

2- قسم المصريون القدماء السنة الى 10 شهور

()

3- اهرامات الجيزة تدل على براعة المصريين القدماء في الطب .

()

4- عرف المصريون القدماء الكثير من الأمراض و استطاعوا

()

علاجها

5- عرف المصريون القدماء كثيراً من مواقع النجوم و الكواكب

()

س3- اكتب تفسيرًا واحدًا :-

- 1- أهمية وظيفة الكاتب عند المصريين القدماء .
(ج) تساعد في وصول صاحب المهنة الى المناصب العليا في الدولة
- 2- معرفة المصريين القدماء لكثير من مواقع الكواكب والنجوم .
(ج) بسبب براعة المصريين القدماء في علم الفلك
- 3- أهمية علم الهندسة عند المصريين القدماء .
(ج) ساعدت على تخطيط المدن و حفر الترع و بناء الأهرامات كما انهم عرفوا العديد من الأشكال الهندسية مثل المربع و المستطيل
- 5- أهمية علم الحساب عند المصريين القدماء
(ج) ساعدهم ذلك في حساب مساحة الأراضي الزراعية و تسجيل رواتب الجنود و تحديد قيمة الضرائب بناءً على الفيضان


س5- أكتب نتيجة واحدة ترتبت علي ما يلي :-

1- معرفة المصريين القدماء علم التشريح

(ج) أدى الى معرفتهم لأجزاء الجسم الداخلية و معرفة العديد من الأمراض .

2- تقدم المصريين القدماء في علم الفلك

(ج) أدى الى معرفة الكثير من مواقع النجوم و الكواكب و وضعوا التقويم الشمسي



تمثال الكاتب الجالس

شخصيات موثرة

[الملك رمسيس الثانى - الرئيس الراحل / محمد أنور السادات]

س1- أكتب كلمة (صواب) أمام العبارة الصحيحة وكلمة (خطأ) أمام العبارة غير

الصحيحة

- 1- ولد الرئيس الراحل محمد أنور السادات فى محافظة المنوفية ()
- 2- شارك السادات فى ثورة 25 يناير وإلقى بيانها ()
- 3- شيد فى عهد الملك رمسيس الثانى معبد ابو سمبل ()

س2: اكمل العبارات التالية بما يناسبها من بنك الكلمات :

- 1- اتخذ قرار الحرب ضد العدو الاسرائيلى.
- 2- ولد الرئيس محمد أنور السادات فى محافظة
- 3- الملك رمسيس الثانى هو ابن الملك

أسئلة الدرس الأول : التواصل السياسي والعسكري بين مصر والعالم

س1- اكمل العبارات التالية بما يناسبها من بنك الكلمات :

(السفارات - الهكسوس - اكتوبر عام 1973م - الشمالية الشرقية - للدفاع
المشترك - مجدو - فينيقيا - الخارجية - معاهدة سلام)

- 1- وقعت مصر مع جمهورية السودان اتفاقيات
- 2- عقد الملك رمسيس الثاني مع الحيثيين أول
- 3- قامت الدول العربية بمساندة مصر وسوريا في حرب
- 4- اشترك الفينيقيون مع الملك تحتمس الثالث في معركة
- 5- الهيئات المسئولة عن تعميق العلاقات بين الدول هي
- 6- حماية مصالح المواطنين وتطوير علاقات مصر في الخارج من مهام وزارة
- 7- نقل المصريون القدماء العربات الحربية عن
- 8- عمل الملك تحتمس الثالث علي تأمين حدود مصر

س2- صوب ما تحته خط :-

1- وقعت مصر اتفاقيات للدفاع المشترك مع جمهورية الصومال .

2- اشترك الفينيقيون مع الملك تحتمس الثالث في معركة قادش .

3- ساندت الدول العربية أثناء حرب اكتوبر 1973م كلاً من مصر وليبيا .

س3- أكتب كلمة (صواب) أمام العبارة الصحيحة وكلمة (خطأ) أمام العبارة غير

الصحيحة

1- عقدت مصر اتفاقيات الدفاع المشترك مع جمهورية السودان ()

2- تساهم السفارات بتعميق العلاقات بين الدول . ()

3- نقل المصريون القدماء العجلات الحربية بين من الفنيقيين . ()

4- يوجد في كل دولة سفارات الدول الاخرى ()

5- وقع الملك مينا معاهدة السلام مع الحيثيين ()

س3- فسر ما يلي :-

1- تقوم مصر بعقد المعاهدات والاتفاقيات مع الدول الأخرى .
(ج) لحماية حدودها و حفظ الأمن و نشر السلام و تحقيق رفاهية الشعوب

2- أهمية وجود سفارات بداخل الدول .
(ج) لتعميق العلاقات بين الدول

3- اهتمام مصر بإقامة علاقات تواصل سياسي مع الدول الإفريقية .
(ج) لدعم الأمن و السلام داخل قارتنا الافريقية

س4- ما النتائج المترتبة علي كل مما يلي :-

1- اشترك الفينيقيين مع الملك تحتمس الثالث في معركة مجدو .
(ج) تحقيق انتصار الجيش المصري في المعركة و تأمين حدود مصر الشمالية الشرقية و تدعيم النفوذ المصري في اسيا

2- وجود وزارة الخارجية المصرية
(ج) أدى لتطوير و تعميق علاقات مصر مع الدول الأخرى و العمل على حماية مصالح المواطنين في الخارج

3- غزو الهكسوس لمصر بالنسبة للنظم العسكرية
(ج) أخذ عنهم المصريون القدماء العربات الحربية

الدرس الثاني : التواصل العلمي والثقافي بين مصر والعالم

س1- اختر الاجابة الصحيحة مما بين القوسين :-

1- بنيت مكتبة الاسكندرية في عصر

(البطالمة - الرومان - الهكسوس - الفرس)

2- تأثرت بلاد العراق القديم بالحضارة المصرية القديمة فأخذت عنها شكل

.....

(المعابد - الهرم المدرج - القاير - الطيور المجنحة)

3- نقل المصريون القدماء استخدام الأختام عن بلاد

(اليونان القديم - الرومان - فارس - العراق القديم)

4- أسماء شهور السنة الميلادية تعود في الأصل إلي

(الفينيقيين - الرومان - الفرس - البطالمة)

س2- اكتب كلمة (صواب) أمام العبارة الصحيحة وكلمة (خطأ) أمام العبارة غير

الصحيحة

- 1- اخترع الفينيقيون الحبر الأسود . ()
- 2- أخذ المصريون القدماء رسم الحيوانات المجنحة عن الرومان . ()
- 3- ما زال العالم حتي الآن يستخدم الأطراف الصناعية . ()
- 4- يعد إقليدس من أشهر علماء جامعة القاهرة في الهندسة قديماً . ()

س3- صوب ما تحته خط :-

- 1- أخذ اليونانيون عن مصر بناء المعابد المدرجة .
.....
- 2- ترجع أسماء شهور السنة إلى أصل يوناني .
.....
- 3- زاد التواصل العلمي و الثقافي بين مصر و دول العالم قديماً بعد بناء مكتبة
و جامعة القاهرة .
.....

س3- فسر ما يلي :-

1- وفود طلاب العلم إلي مصر قديما .

(ج) لطلب العلم حيث برع المصريون القدماء في العلوم المختلفة مثل

(الفلك - الطب - الهندسة - العمارة و الفنون)

2- أهمية البعثات العلمية والمنح الدراسية .

(ج) تساعد الطلاب على الاطلاع على كل ما هو جديد في مجال دراستهم و تعرف

ثقافات الشعوب الاخرى



مكتبة الإسكندرية

س4- أكتب نتيجة واحدة ترتبت علي ما يلي :-

1- إنشاء البطالمة لمكتبة وجامعة الاسكندرية .

ج) ساعد على تحقيق التواصل العلمي و الثقافي بين مصر و دول العالم القديم و

خاصة بلاد اليونان

2- تأثر المصريين القدماء بحضارة بلاد العراق القديم.

ج) أدى ذلك إلى رسم الحيوانات الأسطورية المجنحة و استخدام الأختام

الدرس الثالث : التواصل الاقتصادي بين مصر والعالم

س1- أكمل العبارات التالية بما يناسبها من بنك الكلمات :-

- (لبنان - الفيلة - البطالمة - الفينيقيين - حتشبسوت - القديمة - الأثاث - سيزوستريس - الكوميسا - الأسرة 26)
- 1- استعان الملك نخاو الثاني في رحلته الاستكشافية حول إفريقيا بالبحارة.....
 - 2- أرسلت مصر أسطولاً بحرياً لجلب أخشاب الأرز من فينيقيا في عصر الدولة.....
 - 3- ازدهرت التجارة قديماً بين مصر وبلاد الإغريق في عهد.....
 - 4- أمر الملك سنوسرت الثالث بحفر قناة
 - 5- قام البطالمة باستيرادها واستخدامها في تسليح الجيش المصري
 - 6- تم إنشاء العديد من الموانئ علي سواحل البحرين الأحمر والمتوسط أثناء حكم
 - 7- استخدم خشب الأرز في صناعة السفن و.....
 - 8- شاركت مصر في العديد من المنظمات الاقتصادية منها
 - 9- أشهر الرحلات التجارية في عصر الدولة الحديثة كان في عهد الملكة.....

س2- صوب ما تحته خط :-

1- أرسلت مصر أسطولاً بحرياً لجلب أخشاب الأرز من فينيقيا في عصر الملك
خفرع .

2- تم حفر قناة سيزوستريس في عصر الدولة القديمة .

3 - استورد البطالمة المعادن لتسليح الجيش الروماني .

س2- اكتب كلمة (صواب) أمام العبارة الصحيحة وكلمة (خطأ) أمام العبارة غير

الصحيحة

1- تم حفر قناة سيزوستريس في عصر الدولة الحديثة . ()

2- انشاء البطالمة العديد من المواني البحرية في مصر . ()

3- شاركت مصر في منظمة التجارة العالمية . ()

4- انتشرت صناعة الخزف في مدينة نقرطيس . ()

س3- فسر ما يلي :-

1- اهتمام مصر بالانضمام إلي المنظمات الاقتصادية .
(ج) للاستفادة من التجارب الناجحة في تطوير الأنشطة الاقتصادية و زيادة الإنتاج

2- إرسال الملكة حتشبسوت رحلتها التجارية إلي بلاد بونت .
(ج) لجلب العاج و البخور و الأخشاب و العطور و البخور و الحيوانات النادرة و الطيور

3- زيادة النشاط التجاري بين مصر وجيرانها في عصر الدولة الوسطي .
(ج) بسبب حفر قناة سيزوستريس في عهد الملك سنوسرت الثالث

4- ارسل الملك سنفرو اسطولاً بحرياً مكون من 40 سفينة الى فينيقيا
(ج) لإحضار خشب الأرز الذي يستخدم في صناعة السفن و الأثاث

س4- اكتب نتيجة واحدة ترتبت علي ما يلي :-

1- اهتمام البطالمة في بداية حكمهم لمصر بالتجارة .
(ج) ادى لأنشاء العديد من المواني على سواحل البحرين الأحمر و المتوسط

2- بناء مدينة نقرطيس

(ج) أصبحت مركزاً تجارياً و صناعياً حيث أنتشرت بها صناعة الخزف

الدرس الرابع : البورصة المصرية

• اهم المفاهيم الواردة بالدرس :

- البورصة : سوق منظم لبيع و شراء الاسهم و السندات.



- الاسهم :

هي اوراق مالية تجعل صاحبها شريكا في المشروع

- السندات :

هي اوراق مالية تثبت ان مالكاها قدم قرضا لصاحب المشروع لمدة

محددة

س1- اختر الإجابة الصحيحة مما بين القوسين :-

- 1- السوق المنظمة التي فيها بيع وشراء الأسهم والسندات هي
(البنك - البورصة - الشركة - المصنع)
- 2- ورقة مالية طرحها البورصة تعطي صاحبها الحق في فائدة ثابتة محددة مسبقاً هي
(السهم - الشيك - السند - النقود)
- 3- أنشئت أول بورصة في مصر بمحافظة
(القاهرة - الجيزة - الإسكندرية - السويس)
- 4- يستطيع والدك المشاركة في مشروع بدون تحمل للخسائر عندما يشتري من البورصة
(الأسهم - الشركات - السندات - المصانع)

س2- اكتب كلمة (صواب) أمام العبارة الصحيحة وكلمة (خطأ) أمام العبارة غير

الصحيحة

- 1- امشئت أول بورصة في مصر بمحافظة القاهرة. ()
- 2- تساعد البورصة على زيادة استثمارات الدولة . ()
- 3- السندات أعلى مخاطرة من الأسهم . ()
- 4- تعد كل من الأسهم و السندات أوراقاً مالية يمكن بيعها و شرائها . ()

س3- فسر ما يلي :-

1- يحتاج أصحاب المشروعات الى البورصة .

(ج) لانها توفر التمويل اللازم لهم

2- السندات اقل مخاطرة من الأسهم .

(ج) لأن العائد المادي لأصحابها ثابت في حالة المكسب أو الخسارة و ترد قيمة

السندات لأصحابها بعد المدة المتفق عليها

س3- ما النتائج المترتبة علي؟

1- وجود البورصة في جمهورية مصر العربية .

(ج) ساعدت على تمويل المشروعات و زيادة الأستثمارات

2- تحديد فائدة ثابتة مسبقًا لأصحاب السندات .

(ج) أصبحت السندات أقل مخاطرة من الأسهم

هيات مؤثرة

[مكتبة الاسكندرية - المركز الثقافى القومى / دار الاوبرا المصرية]

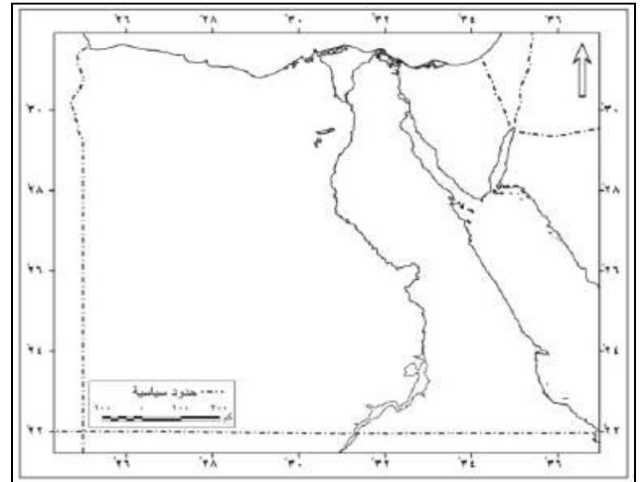
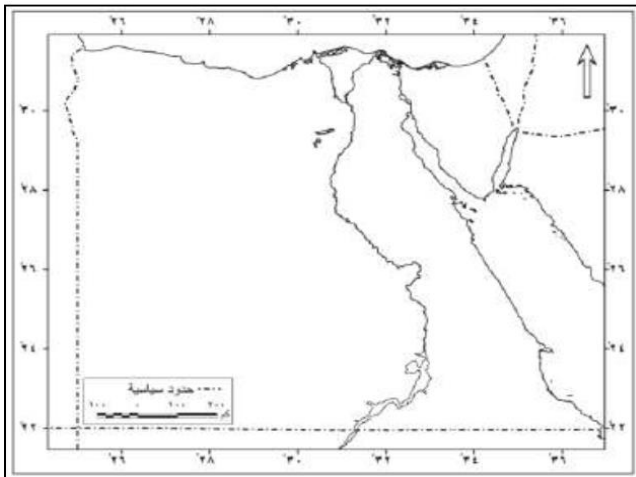
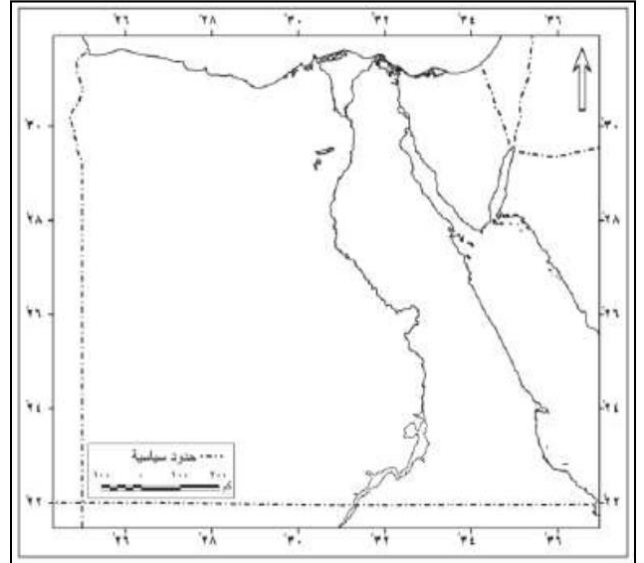
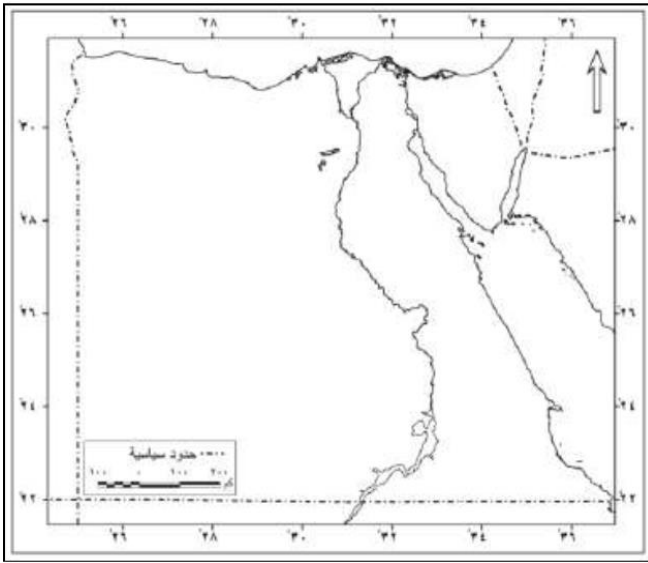
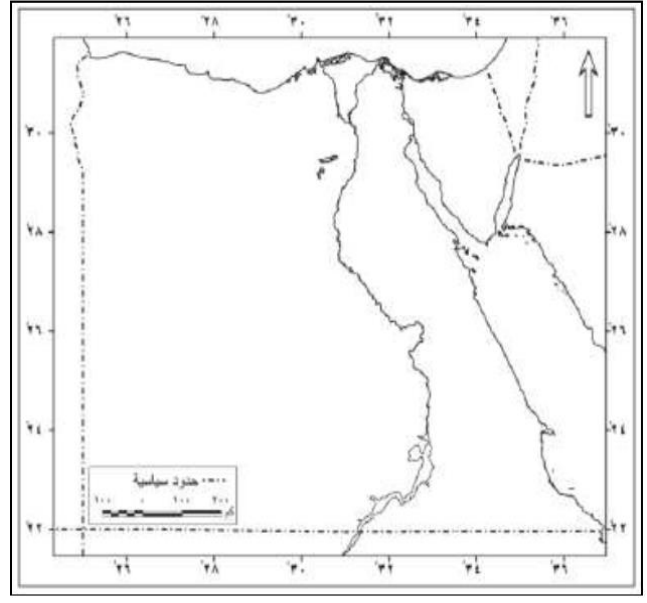
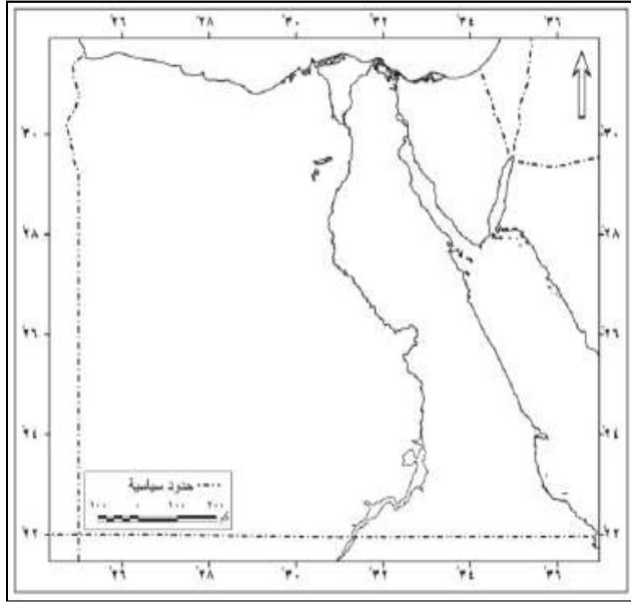
س1- أكمل :-

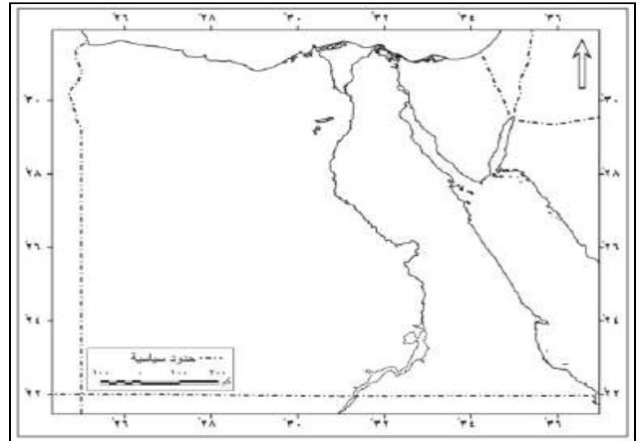
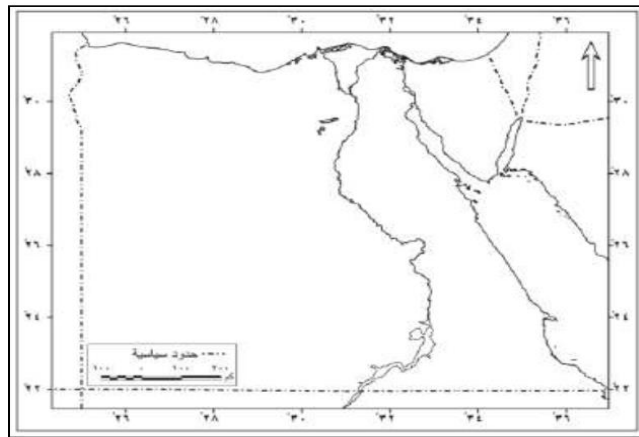
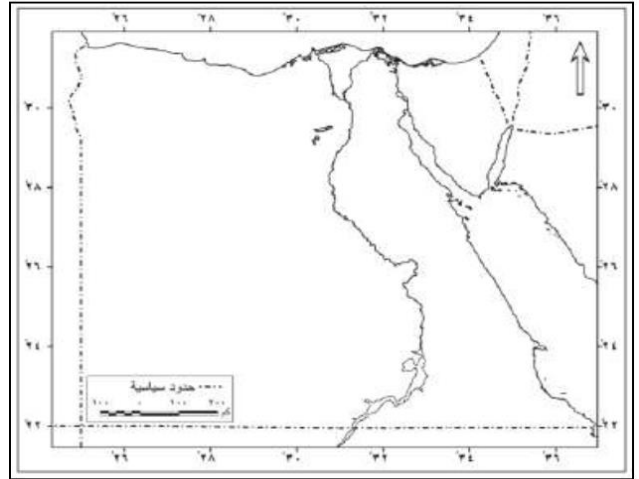
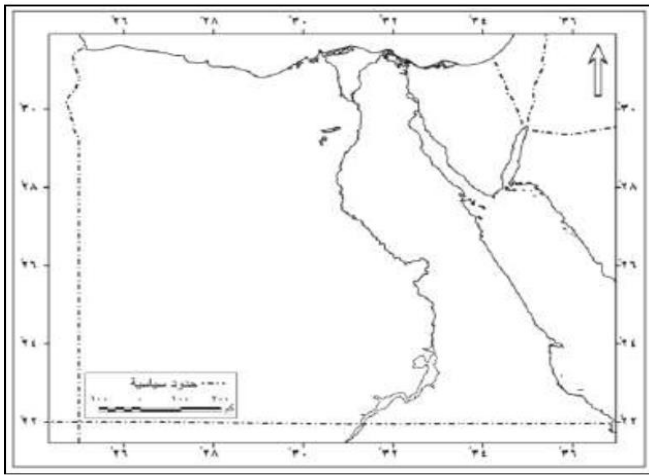
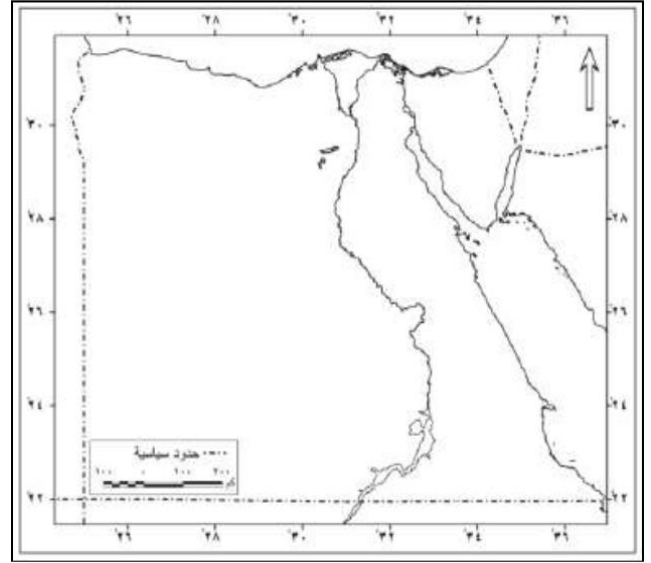
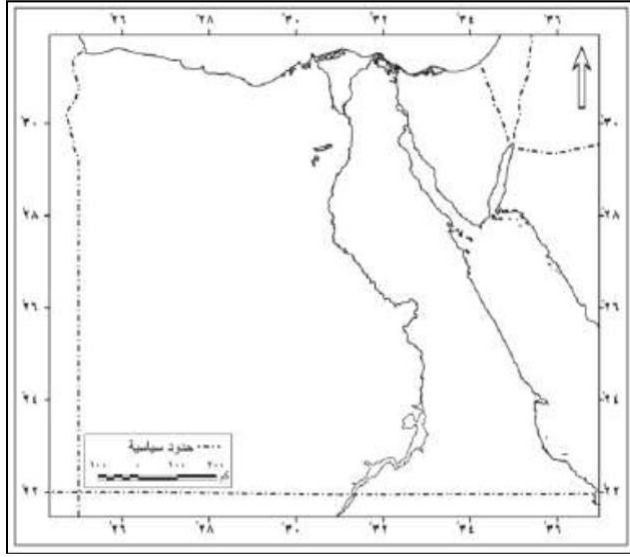
- 1- تم اعتبار منارة العلم والمعرفة فى العالم القديم.
- 2- تحتوى مكتبة الاسكندرية على
- 3- يضم دار الاوبرا المصرية عدد من

س2- اكتب كلمة (صواب) أمام العبارة الصحيحة وكلمة (خطأ) أمام العبارة غير

الصحيحة

- 1- تحتوى مكتبة الاسكندرية على العديد من المراكز البحثية ()
- 2- شيدت مكتبة الاسكندرية فى عصر الرومان ()
- 3- تعتبر دار الاوبرا المصرية احد اهم المنارات الثقافية فى مصر ()





مع تمنيات أسرة الدراسات الاجتماعية بالتميز والتفوق