



St Fatima Language Schools®
Al Hegaz

مدرسة سانت فاتيما - الحجاز

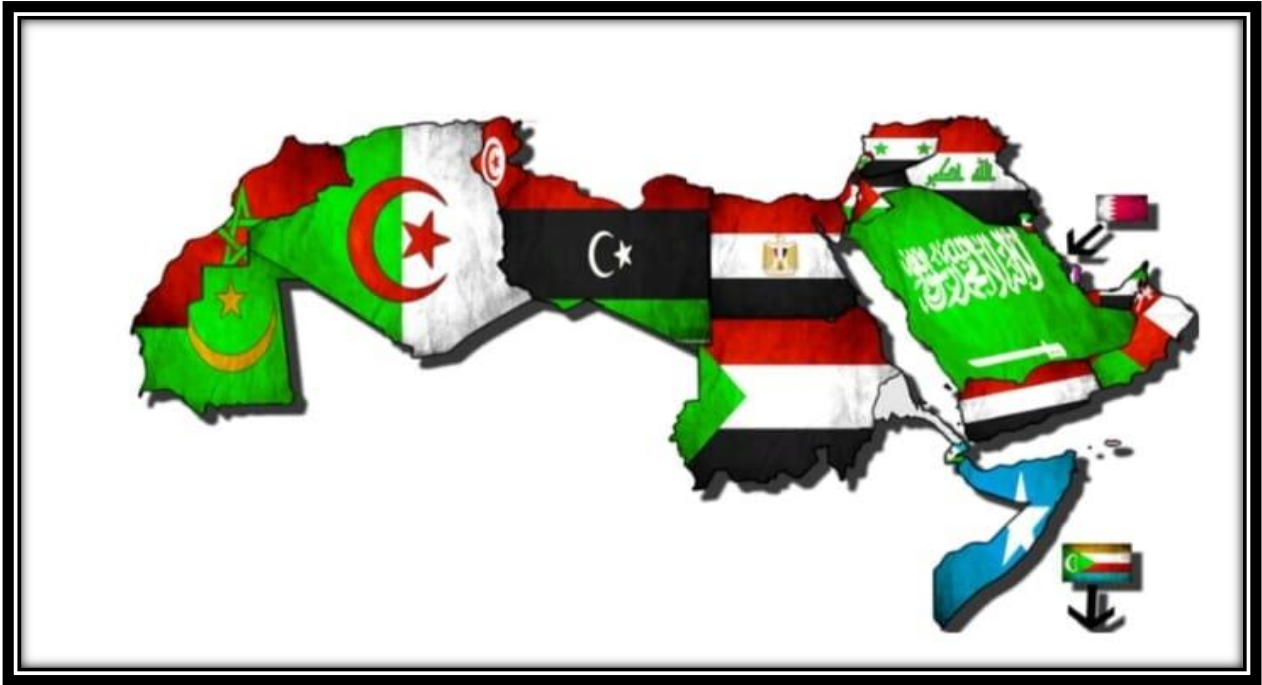
الاسم :

الفصل :

اسم المدرس :

الفصل الدراسي الثاني

للعام الدراسي 2024/2023



الدراسات الإجتماعية للصف السادس الابتدائي

اشراف رئيس قسم الدراسات الاجتماعية
أ. عصمت العدل

الوحدة الأولى : سكان وطننا العربي وتراثهم الثقافي

الدرس الأول الدرس الأول :- نمو وتوزيع السكان في وطننا العربي

أولاً : مفاهيم الدرس :

* المقصود بمعدل نمو السكان :

هو نسبة الزيادة في السكان خلال فترة زمنية معينة نتيجة للمواليد والوفيات والهجرة.



• معدل المواليد :

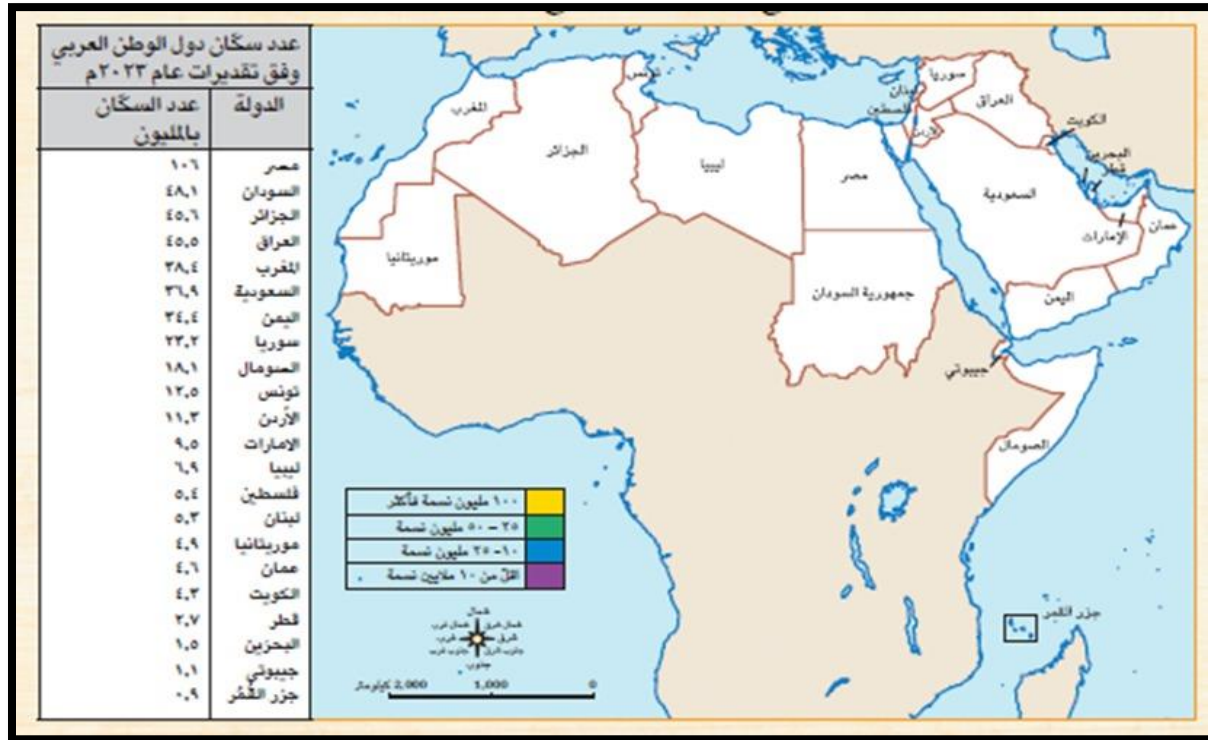
نسبة المواليد إلى إجمالي السكان في عام معين.

• معدل الوفيات :

نسبة الوفيات إلى إجمالي السكان في عام معين.

• الكثافة العامة :

هي إجمالي عدد السكان الذين يعيشون على مساحة معينة من الأرض .



ثانياً: أسئلة مجاب عنها

• السؤال الأول : بم تفسر :-

(1) أسباب ارتفاع معدل النمو السكاني؟

(ج) يرجع ذلك إلى : 1- ارتفاع معدلات المواليد

2- انخفاض معدلات الوفيات

3- الهجرة الدولية.

(2) يتركز السكان في السهول الساحلية لبلاد الشام وشمال إفريقيا؟

(ج) بسبب : 1- اعتدال المناخ 2- توافر المياه العذبة من الأنهار والأمطار

ثالثاً : أجب عما يلي

السؤال الثاني :- اكتب علامة صح أمام العبارة الصحيحة وكلمة خطأ أمام العبارة الخطأ :-

- 1- يوجد في مصر نحو ربع سكان الوطن العربي ()
- 2- تأتي السودان في المركز الثاني عربياً بعد مصر من حيث عدد السكان ()
- 3- اقل دول الوطن العربي سكاناً هي الجزائر ()
- 4- عدد سكان الجناح العربي الآسيوي اكبر من عدد سكان الجناح الإفريقي ()
- 5- تختلف الكثافة السكانية من دولة لأخرى حسب عدد السكان والمساحة ()
- 6- تعاني دول الخليج العربي من مشكلة الزيادة السكانية وقلة الموارد المتاحة ()

السؤال الثالث : أكمل العبارات الآتية :

- 1- من المناطق المرتفعة ذات المناخ المعتدل التي يتركز بها السكان مرتفعات
- 2- يندر السكان في صحراء بالجناح الاسيوى.
- 3- من الدول ذات الفائض السكاني وتعاني من محدودية الموارد دولة
ودولة
- 4- يتركز السكان في السهول في بلاد الشام وشمال إفريقيا حيث اعتدال المناخ وتوافر المياه العذبة.

السؤال الرابع : صوب ما تحته خط :-

- 1- ربع دولة عربية من حيث عدد السكان هي المغرب. (.....)
- 2- يندر السكان بالوطن العربي في المناطق الصناعية والتعدينية (.....)
- 3- يزيد عدد السكان عن الموارد المتاحة في دولة البحرين (.....)
- 4- من دول وادي النيل والقرن الأفريقي مصر والسعودية (.....)
- 5- من دول الهلال الخصيب دولة ليبيا (.....)

السؤال الخامس : اختر الإجابة الصحيحة من بين الإجابات الآتية :-

- 1- أولى الدول العربية في عدد السكان هي
[العراق - المغرب - مصر - السعودية]
- 2- توجد سهول في العراق.
[الوادي والدلتا - دجلة والفرات - جوبا وشيلي - العاصي والليطاني]
- 3- من الدول التي تعاني من زيادة السكان وقلة الموارد
[قطر - البحرين - سوريا - الإمارات]

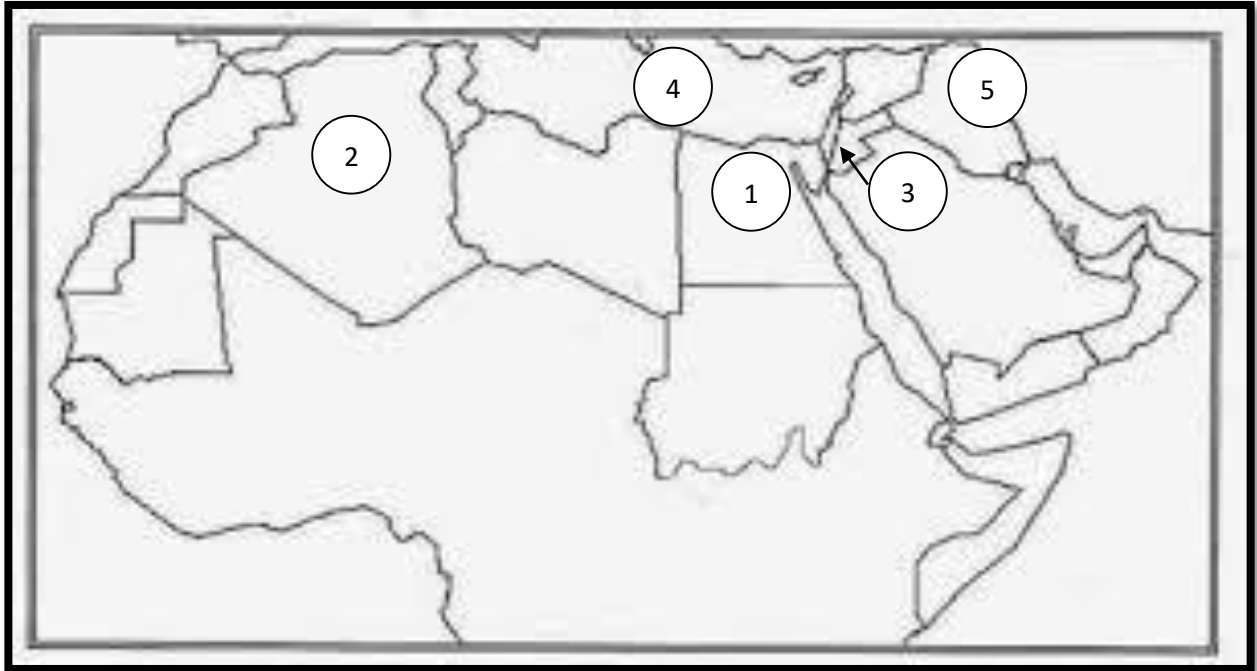
4- من دول شمال افريقيا دولة

[السعودية - تونس - الصومال - العراق]

5- ثالث دولة عربية ترتيباً من حيث عدد السكان هي

[مصر - الصومال - جزر القمر - الجزائر]

السؤال السادس : أمامك خريطة صماء للوطن العربي وضح مدلول الأرقام



1- دولة

2- دولة

3- إحدى دول الهلال الخصيب

4- البحر

5- نهر

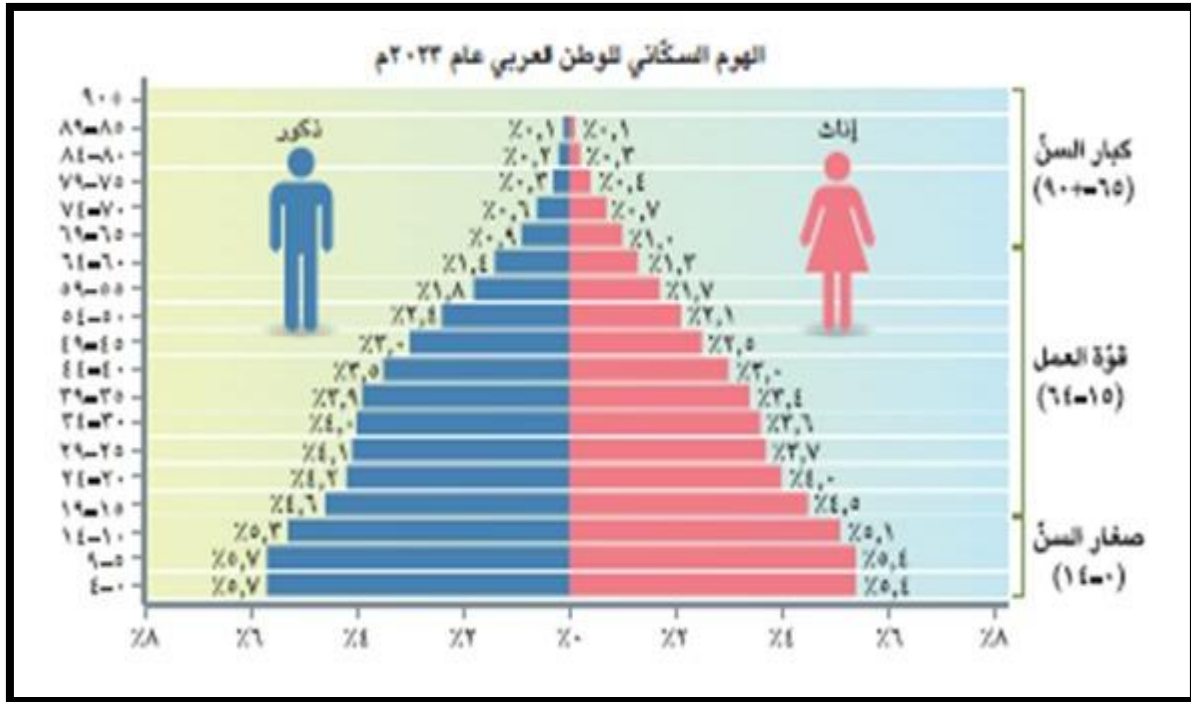
الدرس الثاني

خصائص سكان وطننا العربي

أولاً:- مفاهيم الدرس :-

1- الهرم السكاني :

يوضح توزيع السكان من حيث النوع " ذكور وإناث " والفئات العمرية.



2- الأمية :

هي عدم معرفة القراءة والكتابة .



3- المرافق والبنية التحتية :

تتمثل فى الطرق والمياه النظيفة والكهرباء.



ثانياً : " اسئلة مجاب عنها " :-

السؤال الأول : بم تفسر :

- 1- ارتفاع نسبة سكان الحضر فى الوطن العربى عن المستوى العالمى؟
(ج) بسبب ارتفاع معدلات الهجرة من الريف إلى المدن فى الدول العربية.
- 2- مشكلة الأمية فى الوطن العربى ؟

- (ج) بسبب عدم قيد كل الاطفال بالتعليم الابتدائى والتسرب من التعليم.
- 3- تزيد نسبة الذكور فى بعض الدول العربية خاصة فى سن العمل؟
(ج) بسبب هجرة الذكور بحثاً عن فرص عمل.

السؤال الثانى : ما النتائج المترتبة على :-

- 1- التقدم العلمى وتوفير الخدمات الصحية ؟

(ج) أدى ذلك إلى انخفاض وفيات الأطفال وتحسن مستوى صحة المرأة العربية وارتفاع متوسط عمر الفرد.

- 2- الهجرة إلى المدن فى الوطن العربى ؟

(ج) - يؤدي ذلك لى ازدهام المدن والضغط الكبير على الخدمات العامة
- وانتشار العشوائيات.

- ارتفاع نسبة صغار السن فى الوطن العربى.

- اصبح الهرم السكانى ذو قاعدة عريضة.

ثالثاً : اجب عما يلي :-

السؤال الثالث : اكمل العبارات الآتية :-

- 1- يعرف الهرم السكاني لمصر بأنه ذو قاعدة
- 2- يمكن تقسيم الهرم إلى ثلاث فئات هما ،
..... ،

السؤال الرابع : اكتب ماتشير إليه العبارات الآتية :-

- 1- من أهم ادوات جمع البيانات الإحصائية حول عدد السكان وتوزيعهم وتركيبها العمري والنوعي ()
- 2- فئة السكان التي تنحصر بين 15-64 سنة ()
- 3- فئة غير منتجة وتحتاج إلى رعاية صحية وتعليمية وتمثل نحو 32,5% من سكان الوطن العربي ()

السؤال الثالث: ضع علامة صح أو علامة خطأ:-

- 1- تبلغ الفئة العاملة 63% من إجمالي سكان الوطن العربي وهي تعول فئة صغار السن وكبار السن ()
- 2- ترتفع معدلات الهجرة من المدن إلى الريف في الوطن العربي ()
- 3- يسعى الوطن العربي إلى حل مشكلة البطالة والامية ()
- 4- ترتفع نسبة الامية في الصومال وسوريا بسبب الفقر والحروب ()
- 5- سجلت سوريا أعلى متوسط لعمر متوقع وهو 80 عامًا ()
- 6- سجلت الصومال أدنى متوسط لعمر متوقع وهو 57 عامًا ()

الدرس الثالث

الحياة الاجتماعية في عصر الدولة الإسلامية

أولاً: مفاهيم الدرس :-

1- منظمة المرأة العربية :

هي منظمة تابعة لجامعة الدول العربية وتعمل على نشر الوعي بقضايا المرأة وتدعيم دورها في المجتمع .



ثانيًا : أهم الشخصيات التي وردت بالدرس:-

1- عمر بن الخطاب :

فتح بيت المقدس عام 15 هجريًا وأعطى أهلها الأمان لأنفسهم وأموالهم وكنائسهم .

2- خالد بن الوليد :

فتح بلاد الشام و عقد معهم صلحًا أكد فيه على عدم هدم الكنائس.

3- السيدة ربيعة الإسلامية:

عملت في التمريض لتقديم الرعاية الطبية للمرضى والجرحى في الغزوات .

4- السيدة الشفاء العدوية والسيدة سمراء الأسيديّة:

تولت في عهد الخليفة عمر بن الخطاب الإشراف على الأسواق ومراقبة التجار والعمال ومعاقبة المخالفين.

5- السيدة خديجة بنت خويلد :-

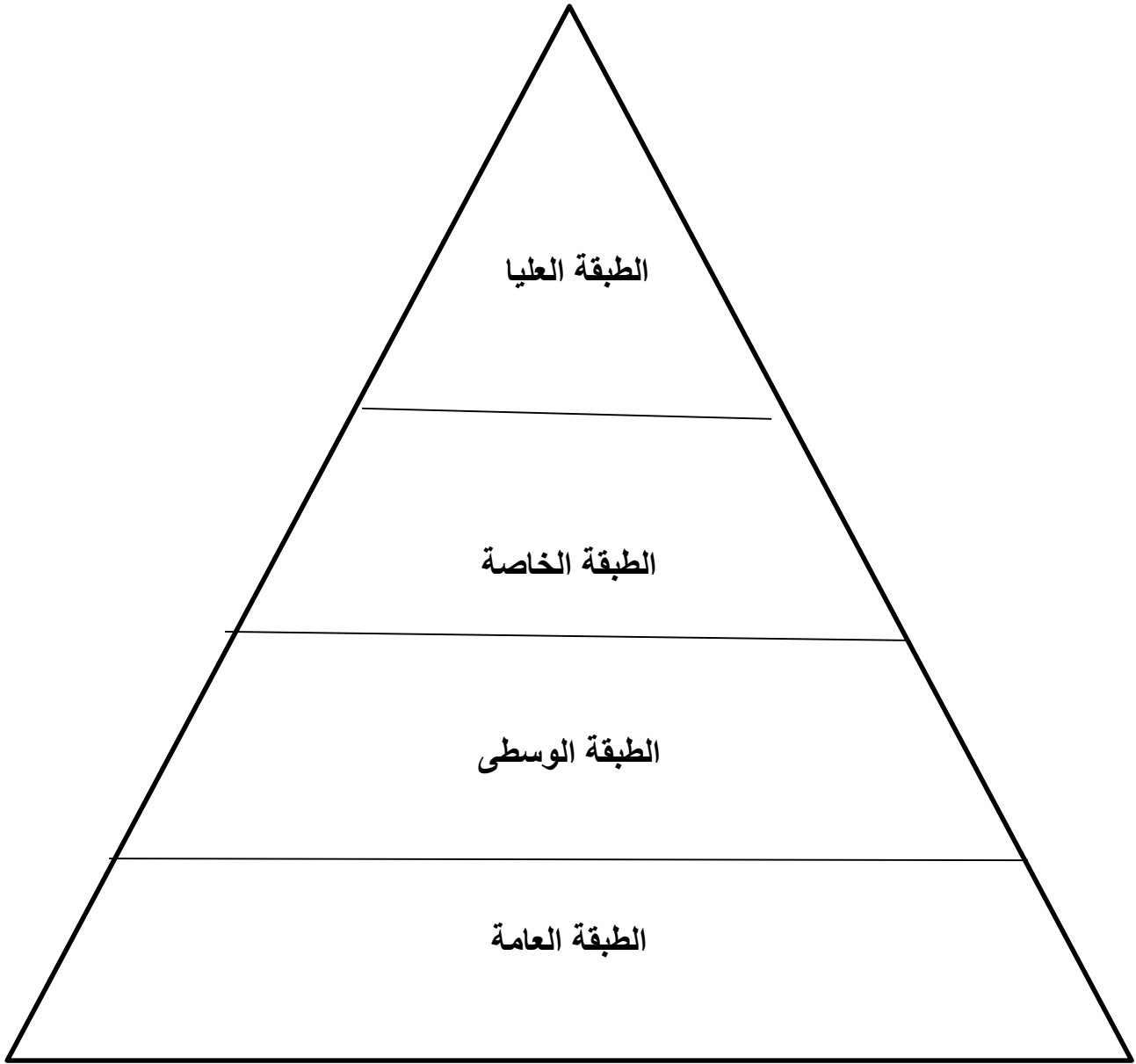
زوجة رسول الله صلى الله عليه وسلم وهي أول من أسلم من النساء.

6- السيدة أسماء بنت أبي بكر :

ساهمت في نجاح خطة هجرة الرسول صلى الله عليه وسلم من مكة إلى المدينة فكانت تخرج في الليل تحمل الطعام والشراب لرسول الله صلى الله عليه وسلم وسط صعوبات وعقبات كثيرة.

ثالثا : أسئلة مجاب عنها :-

السؤال الأول : أرسم شكلاً تخطيطياً يوضح طبقات المجتمع في الدولة الإسلامية:-



1- الطبقة العليا : تضم الخليفة على رأس الهرم والأمراء والوزراء وقادة الجند.

2- الطبقة الخاصة : تضم العلماء والتجار وكبار الادباء.

3- الطبقة الوسطى : تضم أصحاب الاملاك ورؤساء الحرف وكبار العمال.

4- الطبقة العامة : تضم باقى ابناء المجتمع من ضغار العمال والتجار والمزارعين.

السؤال الثاني : بم تفسر:-

الأهمية الاقتصادية لاحتفالية جامعة الدول العربية باليوم العربي للتراث الثقافي ؟

(ج) حيث تعكس حياة الشعوب العربية وتاريخها وتعد جزء من هويتها بالإضافة إلى كونها

مصدر لتنشيط السياحة.

رابعاً: اجب عما يلي :-

السؤال الثالث : ضع علامة صح أو خطأ :-

- 1- أرسى الإسلام حرية الاعتقاد والتعبير ()
- 2- فتح خالد بن الوليد بلاد العراق وعقد معهم صلحاً عام 15 هـ ()
- 3- تمتعت المرأة بمكانة كبيرة في المجتمع الإسلامي ()
- 4- كرم الإسلام المرأة فأعطي لها الحق في الميراث والتملك ()
- 5- عملت المرأة المسلمة في مختلف المجالات ()
- 6- لم تحقق المرأة العربية إنجازات على المستوى العالمي ()
- 7- كان الوزير على رأس الهرم في الطبقة العليا ()
- 8- السيدة روفيدة الإسلامية هي أول من أسلمت من النساء ()

